

النشاط: 13

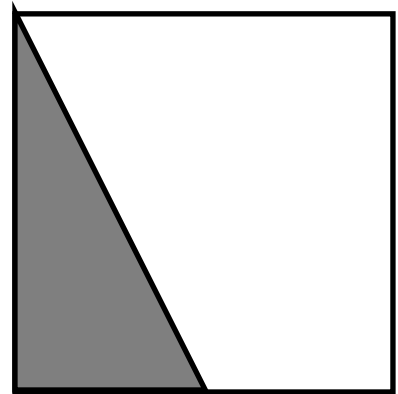
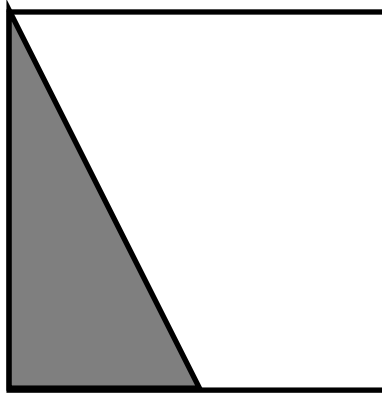
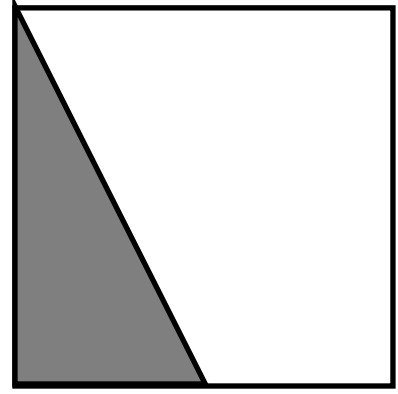
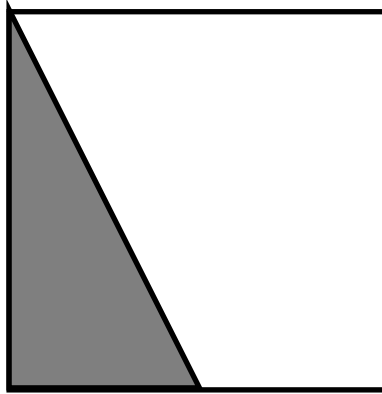
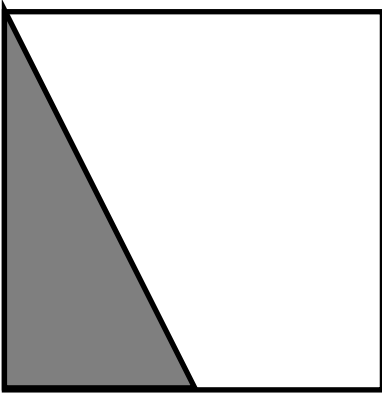
استراتيجية حل المشكلات

السند : اشكال مختلفة (مثلث + شبه منحرف) ، تشكل مربعا

حيث عدد المربعات خمسة

التعليمة : قم باجراءات مختلفة للوصول الى تشكيل مربع كبير بواسطة المضلعات الهندسية المختلفة

(مثلثات وشبه المنحرف)



الإجابة

