

# مدرسة بنات الرمال الإعدادية " أ "

مادة مراجعة في

مادة الدراسات الاجتماعية

للفف السادس الأساسي

إعداد المعلمة / تهاني حسن اللوح

المديرة المساعدة

آمنة الطباطبائي

مديرة المدرسة

بهيرة أبو حمدة

إشراف المختص التربوي :

أ.فريد أحمد

# الوحدة الأولى

## السؤال الأول :- اكتب المفهوم العلمي

- (١) [ ..... ] يدلنا على نوع الخريطة وما فيها من معلومات .
- (٢) [ ..... ] المعلومات الجغرافية التي تحتويها الخريطة .
- (٣) [ ..... ] الخط الذي يحيط بالخريطة ويحدد محتوياتها .
- (٤) [ ..... ] سهم يبين اتجاه الشمال الجغرافي على الخريطة .
- (٥) [ ..... ] مربع مستطيل يوجد على الخريطة ويبين دلالات الرموز ومعانيها والمصطلحات .
- (٦) [ ..... ] النسبة بين المسافة على الخريطة وما يقابلها من مسافة حقيقية على الأرض .
- (٧) [ ..... ] رسم توضيحي لسطح الأرض أو لجزء منه على سطح مستوٍ وفقاً لمقياس رسم معين .
- (٨) [ ..... ] خرائط توزيع التضاريس والمسطحات المائية .
- (٩) [ ..... ] الخرائط السياسية التي تبين أسماء الدول والحدود التي تفصل بينها .
- (١٠) [ ..... ] دراسة الماضي لفهم الحاضر والتنبؤ بالمستقبل .
- (١١) [ ..... ] يدل على الزمن والأحداث التي وقعت قبل ميلاد السيد المسيح .
- (١٢) [ ..... ] يدل على الزمن والأحداث التي وقعت بعد ميلاد السيد المسيح .
- (١٣) [ ..... ] يدل على التاريخ الهجري بالنسبة للمسلمين .
- (١٤) [ ..... ] الوسائل التي يمكن من خلالها الحصول على معلومات عن الماضي .
- (١٥) [ ..... ] تضم الأوراق الرسمية الخاصة والعامة مثل كواشين الأراضي وجوازات السفر .
- (١٦) [ ..... ] ما يكتبه الشخص عن حياته أو عن حياة غيره وتجاريه في الحياة .
- (١٧) [ ..... ] أصول المعرفة الجغرافية وأدواتها .
- (١٨) [ ..... ] المصادر القديمة المتعارف عليها قبيل التقدم العلمي والثقافي .
- (١٩) [ ..... ] الصور التي تلتقط لسطح الأرض بواسطة كاميرات محمولة بالطائرات أو أجهزة .
- (٢٠) [ ..... ] الصور التي تلتقط لسطح الأرض كله أو جزء منه بواسطة كاميرات أو أجهزة تحملها المركبات الفضائية .
- (٢١) [ ..... ] خرائط تبين أسماء الدول والحدود التي تفصل بينها .
- (٢٢) [ ..... ] الكتب التي أنزلت على أنبياء الله قبل القرآن والإنجيل والتوراة .
- (٢٣) [ ..... ] مطبوعات تصدر بصورة دورية وفي أوقات محددة ومتتالية كالصحف والمجلات .

- (٢٤) [ ..... ] اسم تم اطلاقه على ثورة الحجارة في الضفة الغربية وقطاع غزة ضد الاحتلال الصهيوني عام ١٩٨٧م .
- (٢٥) [ ..... ] معركة وقعت بين جيش المماليك وجيش المسلمين عام ١٢٦٠ هـ وانتهت بانتصار المسلمين .
- (٢٦) [ ..... ] تم اصداره في تاريخ ١٠ - ١٢ - ١٩٤٨ وينادي باحترام حقوق وكرامة الإنسان .

### السؤال الثاني :- بم تفسر

- (١) أهمية دراسة التاريخ للإنسان .  
السبب / .....
- (٢) أهمية المصادر التاريخية في حياتنا .  
السبب / .....
- (٣) أهمية الخرائط الطبيعية .  
السبب / .....
- (٤) أهمية الخرائط البشرية .  
السبب / .....
- (٥) أهمية الخريطة للمعلم والطالب .  
السبب / .....
- (٦) أهمية الخريطة لمذيع النشرة الجوية .  
السبب / .....
- (٧) استخدام الجيش للخريطة .  
السبب / .....
- (٨) استخدام المهندس للخريطة .  
السبب / .....

٩) استهداف الاحتلال الصهيوني تاريخنا ووجودنا .

..... / السبب

١٠) على الفلسطيني أن يعي تاريخه ويقف على حقيقة ما وقع من أحداث على أرضه .

..... / السبب

١١) تعد الرحلات من مصادر المعرفة .

..... / السبب

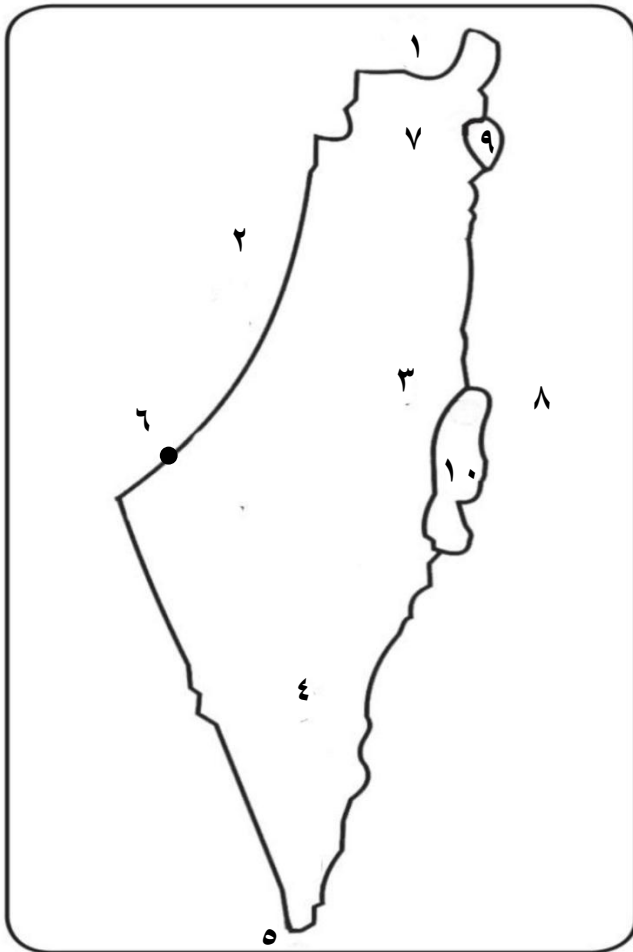
١٢) سرقة الاحتلال الصهيوني الآثار الفلسطينية .

..... / السبب

١٣) عدم استطاعة سكان قطاع غزة زيارة القدس .

..... / السبب

### السؤال الثالث :- خريطة فلسطين



١) دولة عربية .....

٢) بحر .....

٣) عاصمة فلسطين .....

٤) صحراء .....

٥) خليج .....

٦) مدينة ساحلية .....

٧) مدينة جبلية .....

٨) دولة عربية .....

٩) بحيرة .....

١٠) بحر .....

## السؤال الرابع :- خريطة العالم



- (١) قارة .....
- (٢) بحر .....
- (٣) بحر .....
- (٤) محيط .....
- (٥) قارة .....
- (٦) محيط .....
- (٧) خليج .....
- (٨) أكمل الجزء الناقص .....

## السؤال الخامس :-

### ❖ اقرأ النص التالي ثم أجيب عن الأسئلة :-

[ سرقة الآثار الفلسطينية عملية تعرضت لها الأراضي الفلسطينية منذ الاحتلال الصهيوني ]

الأسئلة :-

- (١) سياسة الاحتلال الصهيوني اتجاه الآثار الفلسطينية .....
- (٢) اقترح طرقاً للحفاظ على آثارنا الفلسطينية : ١ - .....
- ٢ - .....

### ❖ اقرأ النص التالي ثم أجيب عن الأسئلة :-

[ يسكن محمد في مدينة غزة ويرغب في زيارة مدينة القدس لكنه لم يتمكن من ذلك ]

- (١) ما هي الأسباب التي حالت دون زيارة محمد القدس .....
- (٢) ما الحق الذي حرم منه محمد .....
- (٣) ما واجبنا تجاه وطننا فلسطين .....

### ❖ اقرأ النص التالي ثم أجيب عن الأسئلة :-

[ التاريخ فن عزيز المذهب عظيم الفوائد، شريفاً الغاية ]

- (١) الفائدة من دراسة التاريخ ١ - ..... ٢ - .....

## الوحدة الثانية

### الدرس الأول ( شبه الجزيرة العربية )

#### السؤال الأول : - اكتب المفهوم العلمي

- (١) [ ..... ] هي مساحة من الأرض تحيط بها المياه من جميع الجهات .
- (٢) [ ..... ] هي مساحة من الأرض تحيط بها المياه من ثلاث جهات فقط .
- (٣) [ ..... ] ما انجزه الإنسان نتيجة لاستقراره في القرى والمدن .
- (٤) [ ..... ] تغيير الانسان مكان اقامته بشكل مؤقت أو دائم .
- (٥) [ ..... ] ترك الانسان موطنه وأرضه رغماً عنه قسراً .
- (٦) [ ..... ] الفلسطينين الذين تركوا أراضيهم ولجأوا إلى دول عربية أو أجنبية خوفاً على أنفسهم من القتل .
- (٧) [ ..... ] تجمعات سكانية طارئة نتجت عن تهجير الفلسطينين من مدنهم وقراهم عام ١٩٤٨ م .

#### السؤال الثاني : - صوب ما تحته خط

- (١) تقع شبه الجزيرة العربية في الجهة الجنوبية الغربية لقارة إفريقيا [ ..... ] .
- (٢) أكبر دولة من حيث المساحة في شبه الجزيرة العربية الجمهورية اليمنية [ ..... ] .
- (٣) تغطي الجبال معظم أراضي شبه الجزيرة العربية [ ..... ] .
- (٤) تسقط الأمطار الشتوية على اليمن وعسير [ ..... ] .
- (٥) تعد مملكة سبأ من أقدم ممالك اليمن [ ..... ] .
- (٦) تمنع قوانين العمل في الأردن الفلسطينين من العمل في وظائف كثيرة [ ..... ] .

#### السؤال الثالث : - من أكون

- (١) ..... مملكة تقع بين مملكة سبأ والبحر الأحمر ومن أشهر ملوكها سيف بن ذي يزن .
- (٢) ..... تمتاز بطيب هوائها ومياهها وخصوبة تربتها وبساتينها الكثيرة .
- (٣) ..... من أشهر ملوك سبأ .
- (٤) ..... عاصمتها قرناو وكانت على درجة كبيرة من القوة والثراء .
- (٥) ..... أصغر دول شبه الجزيرة العربية .

## السؤال الرابع :- اختر الاجابة الصحيحة

(١) جميع ما يلي من دول شبه الجزيرة العربية ما عدا :

أ) السعودية ب) عُمان ج) قطر د) مصر

(٢) من المسطحات المائية التي تشرف عليها شبه الجزيرة العربية :

أ) بحر العرب ب) الخليج العربي ج) البحر الأحمر د) جميع ما ذكر

(٣) يغلب على مناخ شبه الجزيرة العربية الطابع :

أ) المعتدل ب) الصحراوي ج) شبه الصحراوي د) ليس مما ذكر

(٤) عاصمة مملكة معين :

أ) قرناو ب) ريدان ج) ريدان د) الطائف

(٥) أقامت اليمن علاقات تجارية مع بلاد :

أ) الصين ب) الهند ج) فارس د) جميع ما ذكر

(٦) يقع سد مأرب في :

أ) الشام ب) اليمن ج) العراق د) مصر

(٧) ينص قرار الأمم المتحدة رقم ١٩٤ على :

أ) تقسيم فلسطين ب) عودة اللاجئين الفلسطينيين

ج) انتهاء الاحتلال الصهيوني من أراضي عام ١٩٦٧ م د) اعتبار الصهيونية شكلاً من أشكال العنصرية

(٨) من القبائل التي هاجرت من شبه الجزيرة العربية إلى العراق :

أ) الأكاديين ب) العموريين ج) الانباط د) ( أ + ب )

(٩) هجرة الفلسطينيين عام ١٩٤٨ إلى غزة والضفة الغربية :

أ) طوعية داخلية ب) إجبارية خارجية ج) إجبارية داخلية د) طوعية خارجية

(١٠) احتل الاحتلال الصهيوني جميع ما تبقى من الأراضي الفلسطينية ( الضفة الغربية - قطاع غزة ) عام :

أ) ١٩٤٨ م ب) ١٩٦٧ م ج) ١٩٧٦ م د) ١٩٨٨ م

## السؤال الخامس :- بم تفسر

(١) تتمتع شبه الجزيرة العربية بموقع تجاري وحضاري مهم .

السبب / .....

(٢) لا تسقط الامطار على شبه الجزيرة العربية إلا نادراً .

السبب / .....

٣) قيام الحضارات في شبه الجزيرة العربية .

السبب / .....

٤) كانت مملكة معين تتمتع بدرجة كبيرة من القوة والثراء .

السبب / .....

٥) سقوط مملكة معين .

السبب / .....

٦) انهيار سد مأرب .

السبب / .....

٧) بروز دور مكة الحضاري .

السبب / .....

٨) بروز دور يثرب الحضاري .

السبب / .....

٩) بناء أهل اليمن السدود .

السبب / .....

١٠) برع أهل اليمن ببناء المدرجات الزراعية على جوانب الجبال .

السبب / .....

١١) هجرة القبائل من شبه الجزيرة العربية إلى بلاد الشام والعراق .

السبب / .....

١٢) هجرة الفلسطينيين عام ١٩٤٨ م .

السبب / .....

١٣) غالبية اللاجئين في لبنان من منطقة الجليل .

السبب / .....



## السؤال السادس : - ما النتيجة المترتبة على

(١) الاحتلال الصهيوني لفلسطين عام ١٩٤٨م وعام ١٩٦٧م .

أدى إلى .....

(٢) انهيار سد مأرب .

النتيجة / .....

## السؤال السابع : - برهن على أو اثبت صحة العبارة التالية

(١) انهيار سد مأرب .

البرهان / .....

(٢) قيام حضارات في شبه الجزيرة العربية .

البرهان / .....

## السؤال الثامن : - اقرأ القطعة التالية ثم أجب عن الأسئلة

[ شهدت البشرية هجرات لجماعات بشرية مختلفة مثل تهجير الفلسطينيين من وطنهم إلى الدول المجاورة والشتات ]

(١) الدول العربية التي هاجر إليها الفلسطينيون عام ١٩٤٨ ..... / ..... / .....

(٢) اقترح حلاً لحل قضية اللاجئين الفلسطينيين : ١ - .....

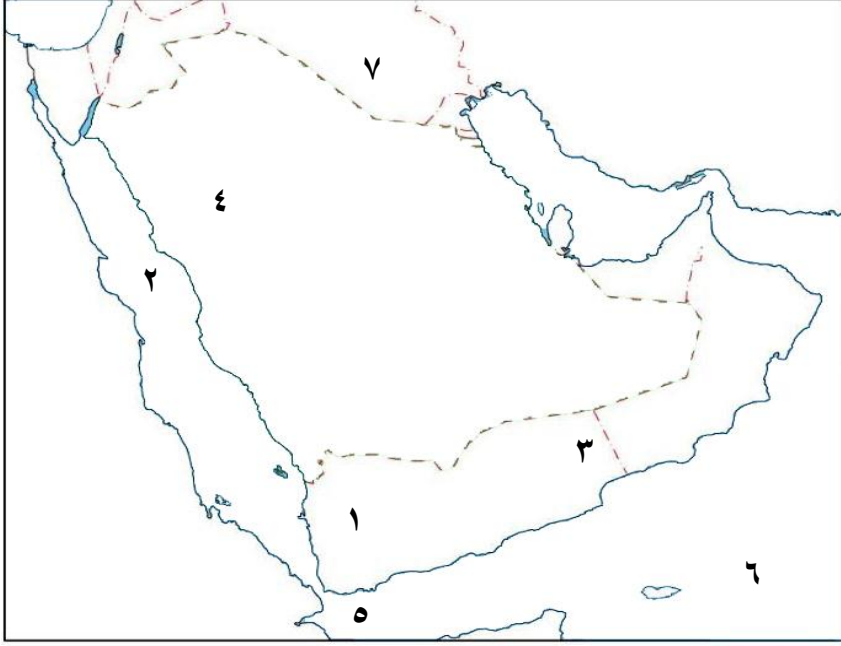
٢ - .....

(٣) ما واجبنا تجاه اللاجئين الفلسطينيين :

أ) .....

ب) .....

**السؤال التاسع :- حدد المطلوب**

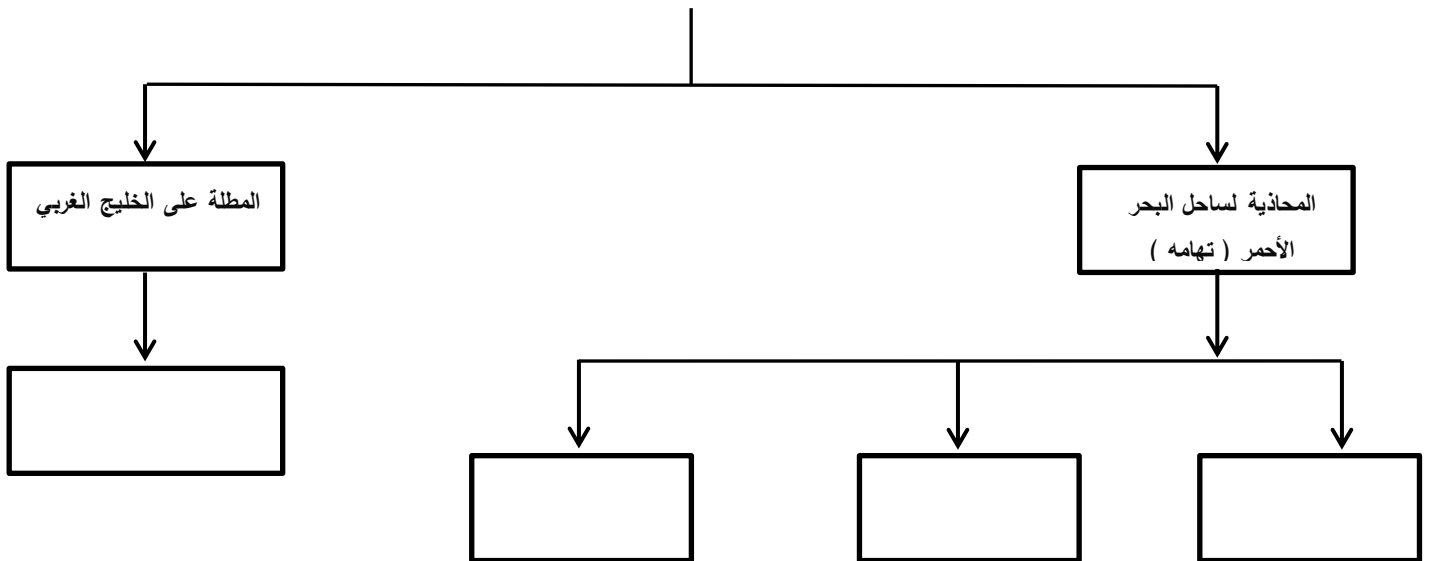


- (١) حضارة .....
- (٢) بحر .....
- (٣) حضارة .....
- (٤) جبال .....
- (٥) خليج .....
- (٦) بحر .....
- (٧) حضارة .....

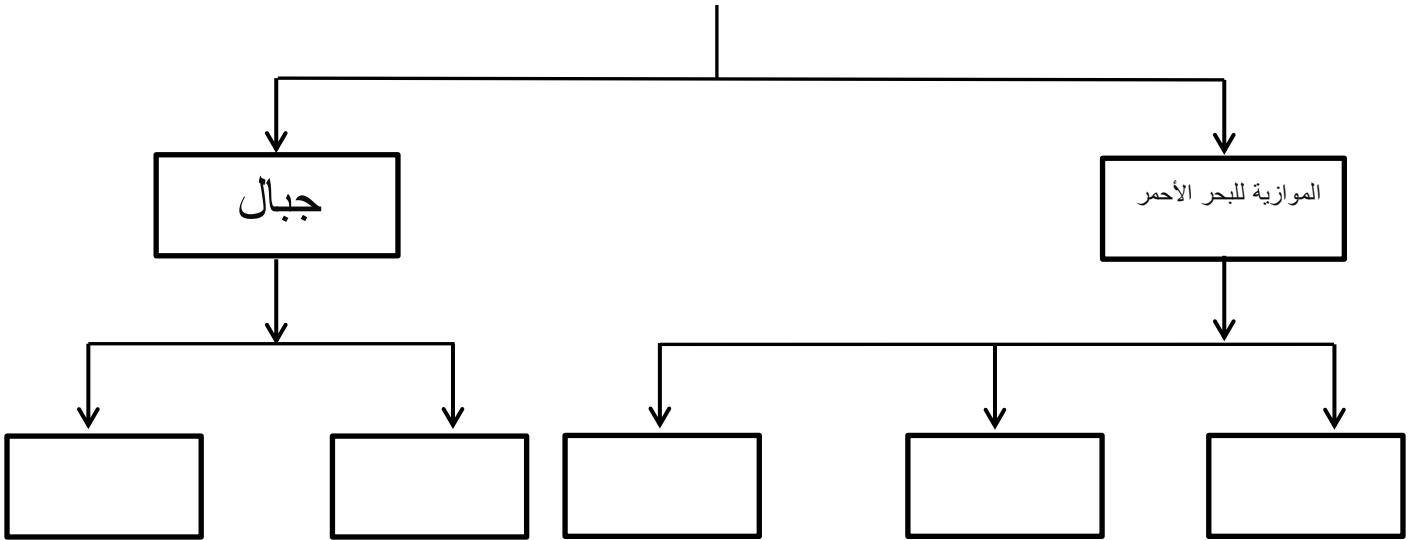
**السؤال العاشر : أكمل الشكل التالي**

**مظاهر السطوح في شبه الجزيرة العربية**

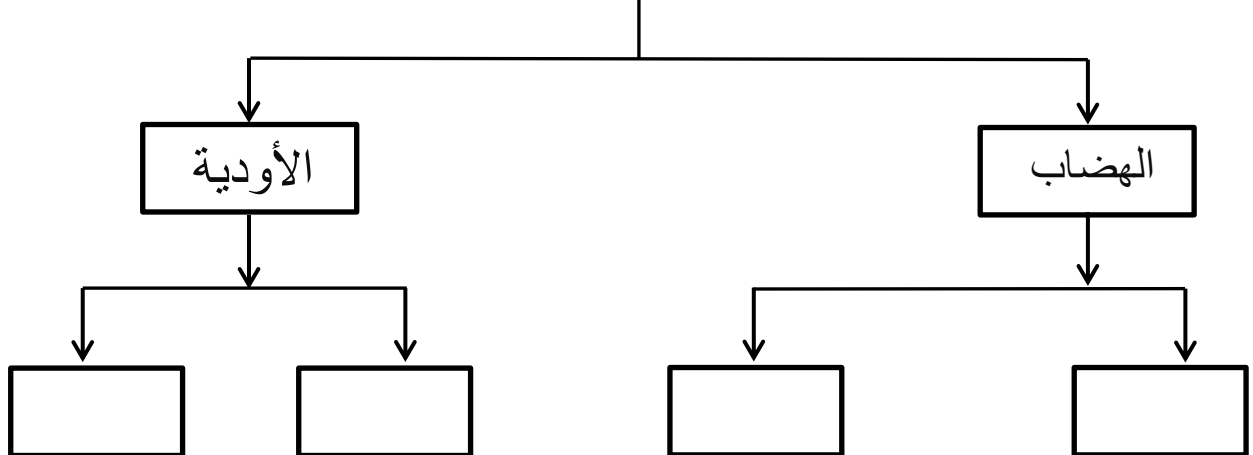
**السهول الساحلية**



الجبال



مظاهر السطح في شبه الجزيرة العربية



## الدرس الثاني ( بلاد الشام )

### السؤال الأول :- اكتب المفهوم

- (١) [ ..... ] تمتد من بلاد الشام من شمال سورية حتى خليج العقبة وتتمثل في فلسطين لمنطقة أريحا والأغوار والبحر الميت ووادي عربة .
- (٢) [ ..... ] مجارٍ مائية عذبة تنحدر من المناطق المرتفعة لتصب في محيط أو بحر .
- (٣) [ ..... ] مناطق منخفضة ومحصورة بين جبلين تجري فيها المياه وقت هطول المطر .

### السؤال الثاني :- اختر الإجابة الصحيحة مما بين القوسين

- (١) تقع بلاد الشام في الجهة ..... من قارة آسيا :
- أ- الشرقية      ب- الغربية      ج- الشمالية      د- الجنوبية
- (٢) يحده بلاد الشام من الشمال :
- أ- تركيا      ب- شبه الجزيرة العربية      ج- العراق      د- البحر المتوسط
- (٣) تتكون بلاد الشام من ..... دول :
- أ- أربعة      ب- خمسة      ج- ستة      د- ثلاث دول
- (٤) أكبر دول بلاد الشام من حيث المساحة : .....
- أ- سوريا      ب- لبنان      ج- فلسطين      د- الأردن
- (٥) من السهول الداخلية التي تنحصر بين المرتفعات الجبلية : .....
- أ- سهل مرج بن عامر      ب- سهل البقاع      ج- سهل الغاب      د- جميع ما ذكر
- (٦) تقع جبال عجلون والشرارة في دولة : .....
- أ- الأردن      ب- سوريا      ج- لبنان      د- فلسطين
- (٧) يسود المناخ الصحراوي وشبه الصحراوي في بلاد الشام في مناطق : .....
- أ- الأغوار      ب- بادية الشام      ج- صحراء النقب      د- جميع ما ذكر
- (٨) قبائل هاجرت من شبه الجزيرة العربية واستقروا في بلاد الشام ومن مدنها آرام ( دمشق ) : .....
- أ- الكنعانيون      ب- الآراميون      ج- الأنباط      د- العساسنة
- (٩) عاصمة الأنباط هي : .....
- أ- تدمر      ب- آرام      ج- البتراء      د- الصبيرة
- (١٠) المناخ السائد في بلاد الشام : .....
- أ- الصحراوي      ب- المعتدل      ج- القطبي      د- الاستوائي

### السؤال الثالث :- بم تفسر

(١) أهمية الموقع الجغرافي لبلاد الشام .

السبب : .....

(٢) ظهور حضارات في بلاد الشام .

السبب : .....

(٣) بناء الأنباط السدود والخزانات .

السبب : .....

(٤) إقامة الحضارة التدمرية الحصون على طرق القوافل التجارية .

السبب : .....

(٥) تسمية العساسنة بهذا الاسم .

السبب : .....

(٦) هجرة العساسنة من جنوب شبه الجزيرة العربية .

السبب : .....

(٧) تنوع الغطاء النباتي الطبيعي في بلاد الشام .

السبب : .....

(٨) عدم استغلال الشعب الفلسطيني لموارده الطبيعية .

السبب : .....

---

### السؤال الرابع :- ما النتيجة المترتبة على

(١) سيطرة الاحتلال الصهيوني على موارد فلسطين الطبيعية .

النتيجة : .....

(٢) سيطرة الاحتلال الصهيوني على الموارد المائية .

النتيجة : .....

(٣) الموقع المتميز لـ ( تدمر ) .

النتيجة : .....

(٤) تنوع مظاهر السطح في بلاد الشام منذ أقدم العصور .

النتيجة : .....

(٥) اعتناق الآراميون الديانة المسيحية .

النتيجة : .....

### السؤال الخامس :- صمم ما تحتته خط

- (١) يحد بلاد الشام من الغرب مصر . [ ..... ]
- (٢) اصغر دول بلاد الشام من حيث المساحة سوريا . [ ..... ]
- (٣) تقع جبال الجليل في الأردن . [ ..... ]
- (٤) يجري نهر العاصي في فلسطين والأردن . [ ..... ]
- (٥) يسود المناخ الصحراوي في السهول الساحلية في بلاد الشام . [ ..... ]
- (٦) انتهت الحضارة التدمرية عام ١٠٦ على يد الاحتلال الفارسي . [ ..... ]
- (٧) اتخذ العساسنة من مدينة دمشق عاصمة لهم . [ ..... ]
- (٨) من أشهر ملوك تدمر الملكة بلقيس . [ ..... ]
- (٩) تقع بلاد الشام في قارة أفريقيا . [ ..... ]

### السؤال السادس :- برهن أو أثبت صحة ما يلي

١. تميز الأنباط في مجال العمارة .

البرهان : .....

٢. سيطرة الاحتلال على موارد المياه في فلسطين .

البرهان : .....

٣. قيام حضارة في بلاد الشام .

البرهان : .....

٤. تنوع الموارد الطبيعية في بلاد الشام .

البرهان : .....

### السؤال السابع :- وقع على الخريطة

(١) سوريا .

(٢) العراق .

(٣) الأردن .

(٤) البحر الأحمر .

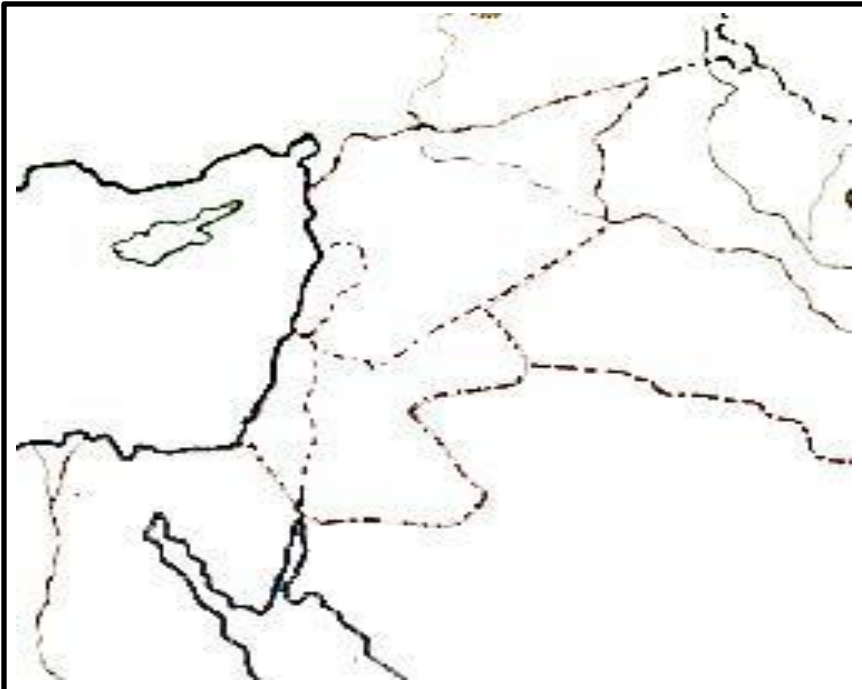
(٥) مصر .

(٦) لبنان .

(٧) فلسطين .

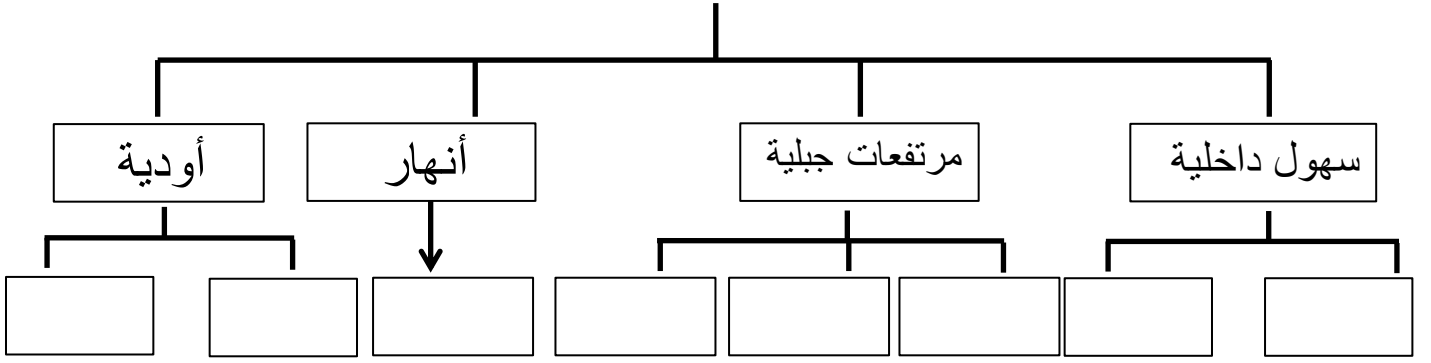
(٨) البحر المتوسط .

(٩) السعودية .



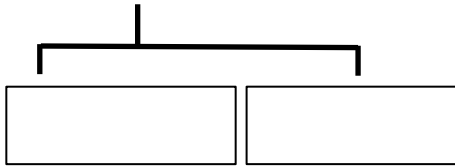
السؤال الثامن :- أكمل المخطط التالي

أعطي أمثلة على مظاهر السطح من وطننا فلسطين

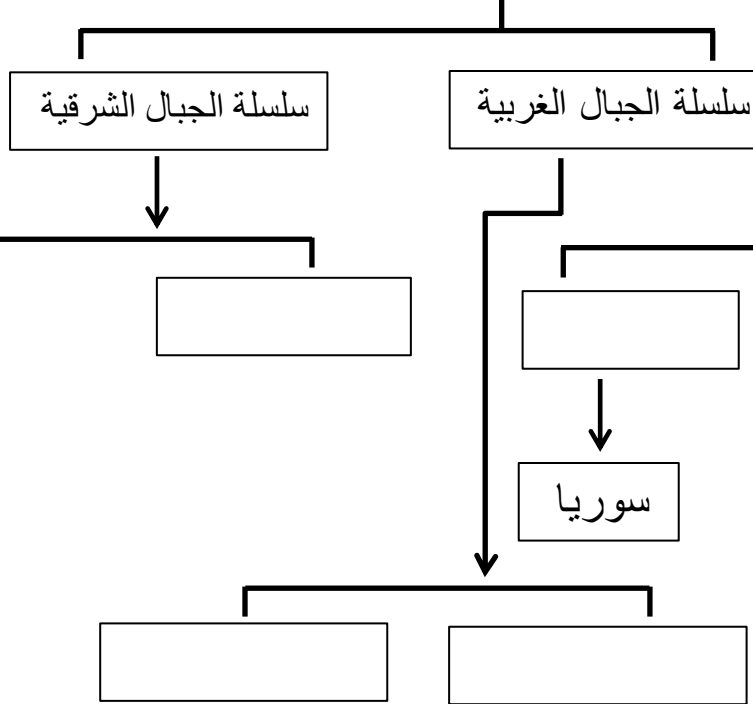


# مظاهر السطح في بلاد الشام

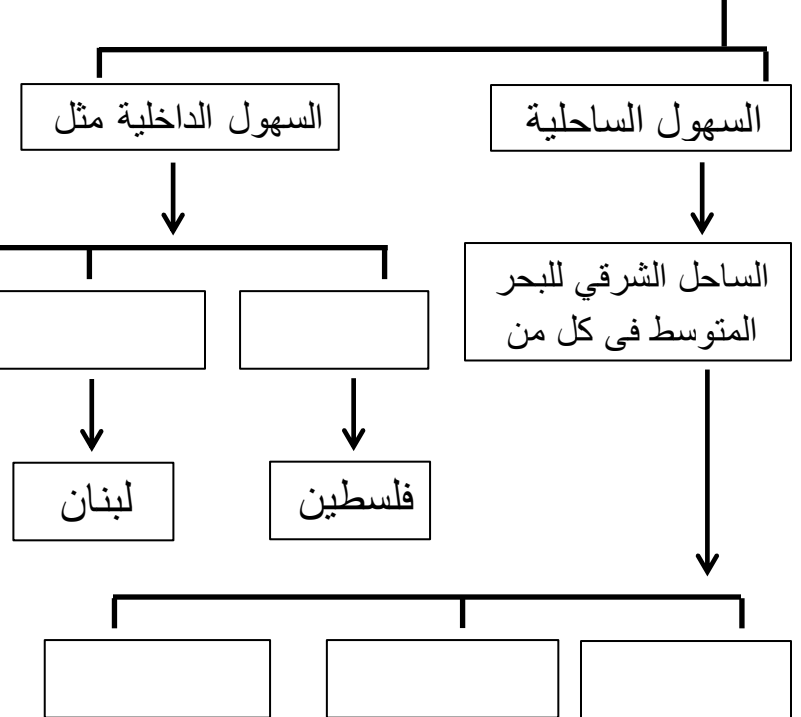
## الهضاب



## المرتفعات الجبلية



## السهول





# الأنهار والأودية في بلاد الشام

الأودية

الأنهار

الريان

في فلسطين

نهر الفرات

في لبنان  
وسوريا

بين فلسطين  
والأردن

### الدرس الثالث

#### فلسطين ارض كنعان

#### السؤال الأول : - اختر الاجابة الصحيحة مما بين القوسين

- (١) سميت فلسطين أرض كنعان قبل حوالي ..... قرناً قبل الميلاد :
- أ. ١٥ ق.م      ب. ١٦ ق.م      ج. ٥١ ق.م      د. ١٣ ق.م
- (٢) تبلغ مساحة فلسطين ..... كم ٢ :
- أ. ٢٧ ألف      ب. ٧٢ ألف      ج. ٣٧ ألف      د. ٤٧ ألف
- (٣) الاسم الكنعاني لمدينة القدس هو : .....
- أ. يريحو      ب. هزاي      ج. أورسالم      د. عكو
- (٤) كلمة كنعان مأخوذة من ( كنع ) وتعني الأرض : .....
- أ. المرتفعة      ب. المنخفضة      ج. المنبسطة      د. المتعرجة
- (٥) أقدم مدن العالم : .....
- أ. القدس      ب. نابلس      ج. أريحا      د. غزة

#### السؤال الثاني : - بم تفسر

- (١) أحاط الكنعانيون مدنهاهم وقراها بالأسوار المنيعة .

السبب : .....

- (٢) تسمية الكنعانيون بهذا الاسم .

السبب : .....

- (٣) أهمية الموقع الجغرافي لفلسطين .

السبب : .....

- (٤) تسمية فلسطين بهذا الاسم .

السبب : .....

#### السؤال الثالث : - ما النتيجة المترتبة على

- (١) الموقع الاستراتيجي لفلسطين .

النتيجة : .....

### السؤال الرابع :- صوب ما تحته خط

- (١) تقع فلسطين غرب البحر المتوسط . [ ..... ]
- (٢) تقع فلسطين في الجهة الغربية من قارة إفريقيا . [ ..... ]
- (٣) غزة كانت عاصمة اليبوسيين . [ ..... ]
- (٤) هزاتي هو الاسم الكنعاني لمدينة نابلس . [ ..... ]

### السؤال الخامس :-

#### اقرأ النص ثم أجب عن الأسئلة التي تليه

(١) " سلك الكنعانيون في تجارتهم محاور تجارية مهمة حيث كانت قوافلهم تسير جنوباً حتى اليمن وحضرموت وعمان واتجهت شرقاً مع بابل "

- (١) الدول التي ارتبطت مع الكنعانيين بعلاقات تجارية ..... / ..... / .....
- (٢) خضعت أرض كنعان لسيطرة ..... / ..... / ..... / .....
- (٣) المدن التي شملتها أرض كنعان قديماً تمتد من ..... شمالاً إلى ..... جنوباً.

#### اقرأ النص ثم أجب عن الأسئلة التي تليه

(٢) " حبا الله ارض كنعان بموقع متميز فتارة يكون نعمة وتارة تكون نقمة "

- (١) القوى الاستعمارية التي سيطرت على فلسطين حديثاً .....
- (٢) ممارسات الاحتلال الصهيوني لعزل الشعب الفلسطيني عن العالم والدول العربية .

.....

(٣) برهن أو أثبت أن :عنصرية الاحتلال الصهيوني .

البرهان: .....

### السؤال السادس :- أكمل الجدول

المدينة	الاسم الكنعاني	المعنى
أريحا	.....	.....
.....	يافو	.....
.....	.....	إله السلام
عكا	.....	.....
.....	هزاتي	.....

## الوحدة الثانية الدرس الثالث

### العراق ( بلاد الرافدين )

#### السؤال الأول :- اكتب المفهوم

- (١) [ ..... ] مجموعة قواعد عامة ملزمة تنظم العلاقات بين الأشخاص في المجتمع .
- (٢) [ ..... ] من أقدم الشرائع المكتوبة في التاريخ البشرية تعود من الألف الثاني قبل الميلاد .
- (٣) [ ..... ] عمود حجري له قاعدة وأربعة أوجه وينتهي رأسه بهرم صغير .
- (٤) [ ..... ] برج يرتفع ١٠٠ م وهو من أهم الانجازات الحضارية للبابليين .
- (٥) [ ..... ] كتبت على ألواح من الطين بأقلام رؤوسها مربعة الشكل وتظهر على شكل مسامير .

#### السؤال الثاني :- اختر الاجابة الصحيحة

- (١) تقع بلاد الرافدين ( العراق ) ..... قارة آسيا :  
أ- شرق      ب- غرب      ج- شمال شرقي      د- شمال غربي
- (٢) يحد بلاد الرافدين من الشمال : .....  
أ- تركيا      ب- الخليج العربي      ج- شبه الجزيرة العربية      د- بلاد الشام
- (٣) تبلغ مساحة بلاد الرافدين حوالي ..... كم تقريباً :  
أ- ٣٣٧ ألف      ب- ٧٣٤ ألف      ج- ٤٣٧ ألف      د- ٤٧٣ ألف
- (٤) يسود المناخ الصحراوي الحار والجاف في الجهة ..... من بلاد الرافدين :  
أ- الشمالية      ب- الشمالية الشرقية      ج- الغربية      د- الجنوبية
- (٥) من الحضارات القديمة التي نشأت في بلاد الرافدين جنوب العراق : .....  
أ- البابليون      ب- الأكاديون      ج- العموريون      د- السومريين
- (٦) اشتهر السومريين بزراعة : .....  
أ- القمح      ب- الشعير      ج- الحبوب      د- جميع ما ذكر
- (٧) قسموا السنة إلى اثني عشر شهراً وكل شهر تسعة وعشرين يوماً أو ثلاثين : .....  
أ- القمح      ب- الشعير      ج- الحبوب      د- جميع ما ذكر
- (٨) حق من حقوق الانسان المدنية : .....  
أ- الحق في العمل      ب- التعليم      ج- التعبير عن الرأي      د- الحق في الحياة
- (٩) تحالف المناذرة مع الامبراطورية : .....  
أ- الرومانية      ب- الفارسية      ج- اليونانية      د- جميع ما ذكر
- (١٠) زينوا مداخل المدن والقصور لحيوانات مجنحة ضخمة : .....  
أ- البابليون      ب- السومريون      ج- الأكاديون      د- الآشوريين

### السؤال الثالث : - صوب ما تحته خط

- (١) تقع بلاد الرافدين في الجنوب الغربي من الوطن العربي . [ ..... ]
- (٢) يحد بلاد الرافدين من الغرب شبه الجزيرة العربية . [ ..... ]
- (٣) المظهر التضاريسي الغالب على أراضي بلاد الرافدين الجبال . [ ..... ]
- (٤) يسود مناخ البحر المتوسط المعتدل في الجهة الجنوبية لبلاد الرافدين . [ ..... ]
- (٥) من أشهر ملوك السومريين حمورابي . [ ..... ]
- (٦) من أهم القصور التي بناها البابليون قصر الخورمق . [ ..... ]
- (٧) الأكاديون هم من صنعوا الأختام لختم الرسائل . [ ..... ]

### السؤال الرابع : - بم تفسر

- (١) تسمية العراق بلاد الرافدين .

السبب : .....

- (٢) أهمية القانون للمجتمع .

السبب : .....

- (٣) تسمية المناذرة بهذا الاسم .

السبب : .....

- (٤) احتلت بابل مركزاً تجارياً عالمياً مهماً .

السبب : .....

- (٥) تسمية الكتابة السومرية بالمسمارية .

السبب : .....

- (٦) صنع السومريين الأختام .

السبب : .....

- (٧) أهمية الموقع الجغرافي لبلاد الرافدين .

السبب : .....

- (٨) قيام حضارات بلاد الرافدين .

السبب : .....

#### السؤال الرابع :- ما النتيجة المترتبة على

(١) جريان نهري دجلة والفرات في بلاد الرافدين .

النتيجة : .....

(٢) طَوَّر البابليون فكرة القوانين في بلاد الرافدين .

النتيجة : .....

(٣) ازدهار الزراعة في بابل .

النتيجة : .....

#### السؤال الخامس :- من أكون

(١) [ ..... ] من أهم المرتفعات الجبلية في بلاد الرافدين .

(٢) [ ..... ] اتخذوا من بابل عاصمة لهم بعد سيطرتهم عليها ومن ملوكهم نبوخذ نصر .

(٣) [ ..... ] من أشهر ملوك الآشوريين .

(٤) [ ..... ] قام ببناء برج بابل والحدائق المعلقة .

(٥) [ ..... ] قبائل هاجرت من جنوب الجزيرة العربية نحو الشمال واتخذت من مدينة الحيرة

عاصمة لهم .

(٦) [ ..... ] من أقدم الشرائع المكتوبة في التاريخ البشري تعود إلى الألف الثاني .

(٧) [ ..... ] اشتهروا في صناعة الأنسجة والتطريز .

### السؤال السادس :-

#### اقرأ النص الآتي ثم أجب عن الأسئلة التي تليه

" تقطع أذن العبد إذا قال لسيده ، أنت لست سيدي ويخلع الرجل إذا تسبب بخلع سن رجل آخر أن يكون مساوياً له "

(١) أول قانون في بلاد الرافدين هو قوانين .....

(٢) كانت قوانين حمورابي منقوشة على .....

(٣) تركز قوانين حمورابي على مبدأ .....

(٤) الأمور التي ركزت عليها قوانين حمورابي ..... / ..... / ..... / .....

(٥) ما رأيك في قوانين حمورابي ولماذا ؟

الرأي : .....

السبب : .....

### السؤال السابع :-

ماذا يحدث لو: غياب تطبيق القانون في المجتمع

النتيجة : .....

### السؤال الثامن :- برهن أو اثبت صحة التالي

(١) امتازت حضارة السومريين بالابتكار والتقدم .

البرهان : .....

(٢) قدم البابليون انجازات حضارية عدة .

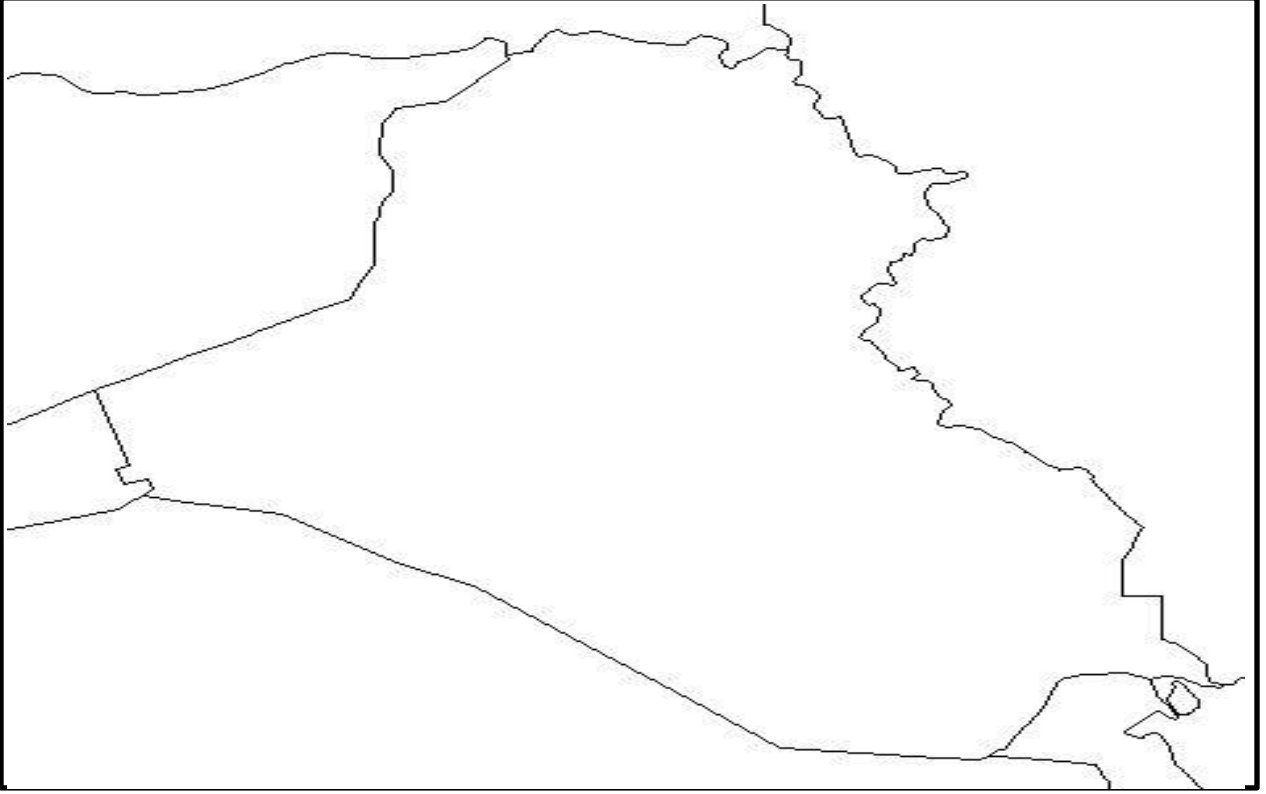
البرهان : .....

### السؤال التاسع :- أكمل الجدول التالي

أشهر ملوكهم	الحضارة
.....	السومريين
.....	الأكاديون
حمورابي	.....
نيوخذ نصر	.....
.....	الأشوريين

## السؤال العاشر :- عين على الخريطة

١. تركيا
٢. بلاد الشام
٣. شبه الجزيرة العربية
٤. ايران
٥. دجلة
٦. الفرات
٧. الحضارة السومرية
٨. الحضارة الأكادية
٩. بغداد
١٠. البابليون
١١. جبال زاغروس





## الوحدة الثانية

### الدرس الخامس / مصر وشمال افريقيا

#### السؤال الأول : - اكتب المفهوم

- (١) [ ..... ] حفظ جثث الموتى بواسطة مواد كيميائية فيحافظ على جسم الانسان ومظهره.
- (٢) [ ..... ] من أقدم الحضارات البشرية وتركزت في مصر وعلى ضفاف نهر النيل.
- (٣) [ ..... ] مقابر ملكية يحمل كل منها اسم الملك الذي بناه وتم دفنه فيه.
- (٤) [ ..... ] نهر يجري في قارة إفريقيا وهو من أطول أنهار العالم يجري من الجنوب إلى الشمال.
- (٥) [ ..... ] المنطقة الواقعة أقصى شمال القارة الإفريقية وتطل دولها على الساحل الجنوبي للبحر المتوسط والساحل الغربي للبحر الأحمر والساحل الشرقي للمحيط الأطلسي.
- (٦) [ ..... ] استخدمها المصريون للتعبير عن أفكارهم وآرائهم من خلال الرموز والصور.

#### السؤال الثاني : - اختر الإجابة الصحيحة

- (١) تقع مصر في الجهة الشمالية الشرقية من قارة : .....  
أ- آسيا      ب- افريقيا      ج- أوروبا      د- ليس مما ذكر
- (٢) البحر ..... يفصل مصر عن قارة آسيا :  
أ- الأحمر      ب- الأبيض المتوسط      ج- الميت      د- الأسود
- (٣) تقع مصر على الساحل ..... للبحر المتوسط :  
أ- الشمالي      ب- الجنوبي      ج- الشرقي      د- الغربي
- (٤) يحد مصر من الجنوب : .....  
أ- فلسطين      ب- ليبيا      ج- السودان      د- البحر المتوسط
- (٥) ينبع نهر النيل من : .....  
أ- البحر المتوسط      ب- هضبة البحيرات      ج- البحر الأحمر      د- الهضبة الإفريقية
- (٦) المظهر التضاريسي الغالب على أراضي مصر : .....  
أ- الجبال      ب- الهضاب      ج- السهول      د- الصحاري
- (٧) أكبر دول شمال افريقيا من حيث المساحة : .....  
أ- مصر      ب- ليبيا      ج- المغرب      د- الجزائر
- (٨) تطل دول شمال افريقيا على الساحل ..... للمحيط الأطلسي :  
أ- الغربي      ب- الجنوبي      ج- الشرقي      د- الشمالي
- (٩) يصب نهر أم الربيع في : .....  
أ- البحر المتوسط      ب- المحيط الأطلسي      ج- المحيط الهندي      د- البحر الأحمر
- (١٠) سقطت مدينة قرطاجة على يد : .....  
أ- الرومان      ب- الفرس      ج- اليونانيين      د- الكنعانيين

### السؤال الثالث :- بم تفسر

(١) الموقع الجغرافي المهم لمصر .

السبب : .....

(٢) تسمية دول شمال افريقيا بهذا الاسم .

السبب : .....

(٣) أهمية الموقع الجغرافي لدول شمال افريقيا .

السبب : .....

(٤) نشوء حضارة مصر القديمة .

السبب : .....

(٥) ساعدت السهول الفيضية على نشوء الحضارة المصرية القديمة .

السبب : .....

(٦) أقام المصريون القدماء السدود .

السبب : .....

(٧) عرف المصريون العملة .

السبب : .....

(٨) بناء المصريون الأهرامات

السبب : .....

(٩) حنط المصريون جثث الموتى .

السبب : .....

---

### السؤال الرابع :- ما النتيجة المترتبة على

(١) جريان نهر النيل في مصر .

النتيجة : .....

(٢) استعمال المصريون القدماء الورق والحبر .

النتيجة : .....

(٣) تعرض الشعوب للغزو والاحتلال .

النتيجة : .....

## السؤال الخامس :- من أكون

- (١) [ ..... ] حاصروا قرطاجة أربع سنين وارتكبوا المجازر بحق أهلها.
- (٢) [ ..... ] النبات الذي صنع منه المصريون الورق.
- (٣) [ ..... ] مؤرخ اغريقي صاحب مقولة ( مصر هبة النيل ) .
- (٤) [ ..... ] من أهم جبال سطح دول شمال افريقيا ويمتد بشكل موازٍ لساحل البحر الأحمر.
- (٥) [ ..... ] أصغر دول شمال افريقيا من حيث المساحة .
- (٦) [ ..... ] أعلى القمم الجبلية في مصر وموازية للبحر الأحمر.
- (٧) [ ..... ] من هضاب شمال افريقيا وتمتد من المحيط الأطلسي غرباً حتى البحر الأحمر شرقاً .

## السؤال السادس :- صوب ما تحته خط

- (١) تبلغ مساحة مصر حوالي ٢ مليون كم<sup>٢</sup> . [ ..... ]
- (٢) يحد مصر من الغرب السودان . [ ..... ]
- (٣) يوجد جبل الطور في صحراء النقب . [ ..... ]
- (٤) يصب نهر الملوية في المحيط الهندي . [ ..... ]
- (٥) يسود المناخ الصحراوي في الأجزاء الشمالية لدول شمال افريقيا . [ ..... ]
- (٦) عُرفت الكتابة المصرية بالكتابة المسمارية . [ ..... ]
- (٧) اسس الفينيقيون مدينة قرطاجة في المغرب . [ ..... ]
- (٨) تشكلت السهول الفيضية في مصر حول مجرى نهر دجلة . [ ..... ]

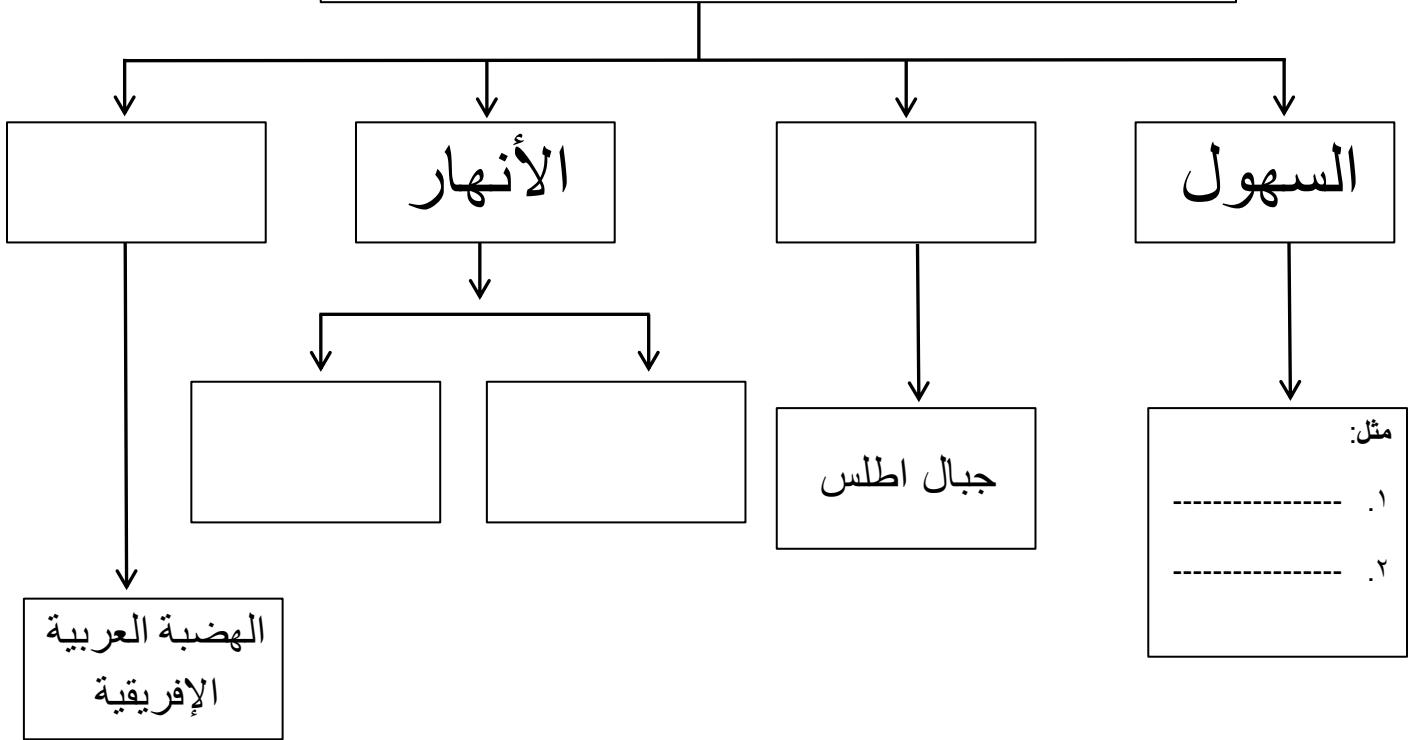
## السؤال السابع :-

### اقرأ النص ثم أجب عن الأسئلة التي تليها

" حاصر الرومان قرطاجة أربع سنين وبعدها استطاعوا دخولها وكان عدد أهلها ٧٠٠ ألف ولم يبق منهم سوى ٥٠ ألف وبقيت المدينة مدة سبعة عشر يوماً كأنها بحيرة من لهب "

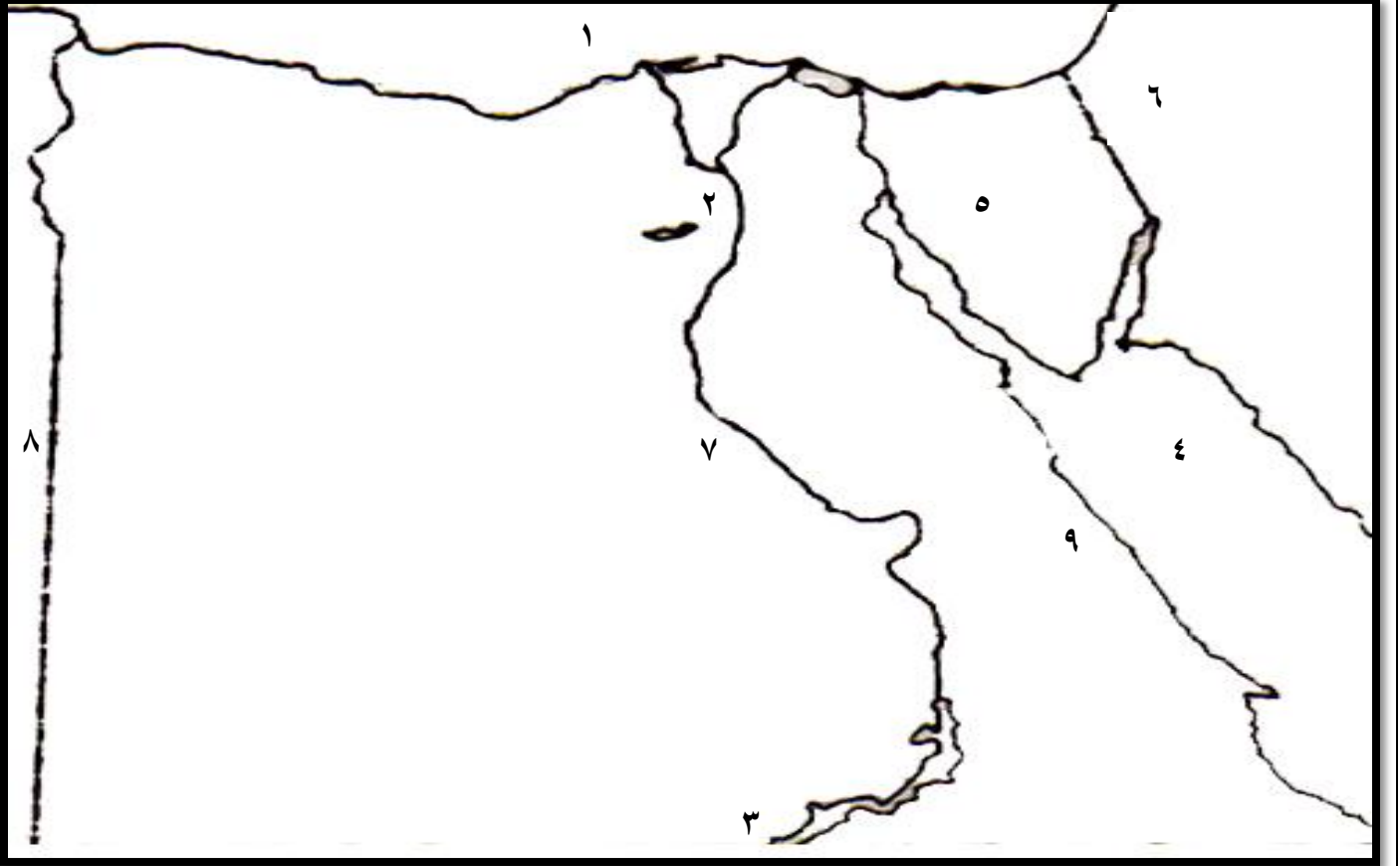
- (١) السياسة التي اتبعها الرومان بعد احتلالهم قرطاجة ..... .
  - (٢) من القرى الفلسطينية التي تم تدميرها على يد الاحتلال الصهيوني ..... .
  - (٣) من المجازر الصهيونية التي ارتكبها الاحتلال الصهيوني بحق الفلسطينيين ..... .
  - (٤) هات من الفقرة ما يدل على أن الرومان ارتكب المجازر بحق أهل قرطاجة ..... .
  - (٥) ما رأيك في سياسة التدمير والحرق التي ارتكبها الرومان ولماذا ؟
- الرأي : .....
- السبب : .....
- (٦) وجه الشبه بين سياسة الاحتلال الروماني تجاه قرطاجة وسياسة الاحتلال الصهيوني تجاه الشعب الفلسطيني .
- .....

## مظاهر السطح لدول شمال افريقيا

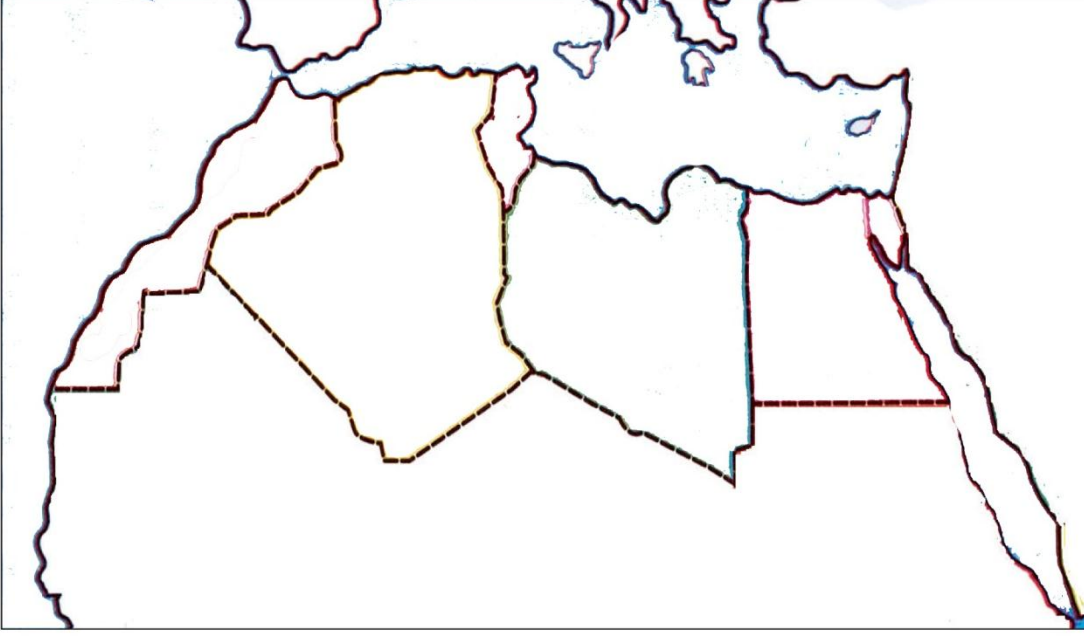


**السؤال التاسع :- أكمل المطلوب**

- |               |               |
|---------------|---------------|
| ١. بحر        | ٢. عاصمة مصر  |
| ٣. دولة عربية | ٤. بحر        |
| ٥. صحراء      | ٦. دولة عربية |
| ٧. نهر        | ٨. دولة عربية |
| ٩. جبل        |               |



**السؤال العاشر : - وقع على الخريطة التالي :**



١. دول شمال افريقيا
٢. البحر الأحمر
٣. البحر المتوسط
٤. المحيط الأطلسي
٥. جبال أطلس
٦. نهر الملوية
٧. نهر أم الربيع



لتحميل المزيد من موقع المكتبة الفلسطينية الشاملة

<http://www.sh-pal.com>

تابعنا على صفحة الفيس بوك: [www.facebook.com/shamela.pal](https://www.facebook.com/shamela.pal)

تابعنا على قنوات التلجرام: [www.sh-pal.com/p/blog-page\\_42.html](http://www.sh-pal.com/p/blog-page_42.html)

أقسام موقع المكتبة الفلسطينية الشاملة:

الصف الأول: [www.sh-pal.com/p/blog-page\\_24.html](http://www.sh-pal.com/p/blog-page_24.html)

الصف الثاني: [www.sh-pal.com/p/blog-page\\_46.html](http://www.sh-pal.com/p/blog-page_46.html)

الصف الثالث: [www.sh-pal.com/p/blog-page\\_98.html](http://www.sh-pal.com/p/blog-page_98.html)

الصف الرابع: [www.sh-pal.com/p/blog-page\\_72.html](http://www.sh-pal.com/p/blog-page_72.html)

الصف الخامس: [www.sh-pal.com/p/blog-page\\_80.html](http://www.sh-pal.com/p/blog-page_80.html)

الصف السادس: [www.sh-pal.com/p/blog-page\\_13.html](http://www.sh-pal.com/p/blog-page_13.html)

الصف السابع: [www.sh-pal.com/p/blog-page\\_66.html](http://www.sh-pal.com/p/blog-page_66.html)

الصف الثامن: [www.sh-pal.com/p/blog-page\\_35.html](http://www.sh-pal.com/p/blog-page_35.html)

الصف التاسع: [www.sh-pal.com/p/blog-page\\_78.html](http://www.sh-pal.com/p/blog-page_78.html)

الصف العاشر: [www.sh-pal.com/p/blog-page\\_11.html](http://www.sh-pal.com/p/blog-page_11.html)

الصف الحادي عشر: [www.sh-pal.com/p/blog-page\\_37.html](http://www.sh-pal.com/p/blog-page_37.html)

الصف الثاني عشر: [www.sh-pal.com/p/blog-page\\_33.html](http://www.sh-pal.com/p/blog-page_33.html)

ملازم للمتقدمين للوظائف: [www.sh-pal.com/p/blog-page\\_89.html](http://www.sh-pal.com/p/blog-page_89.html)

شارك معنا: [www.sh-pal.com/p/blog-page\\_40.html](http://www.sh-pal.com/p/blog-page_40.html)

اتصل بنا: [www.sh-pal.com/p/blog-page\\_9.html](http://www.sh-pal.com/p/blog-page_9.html)