

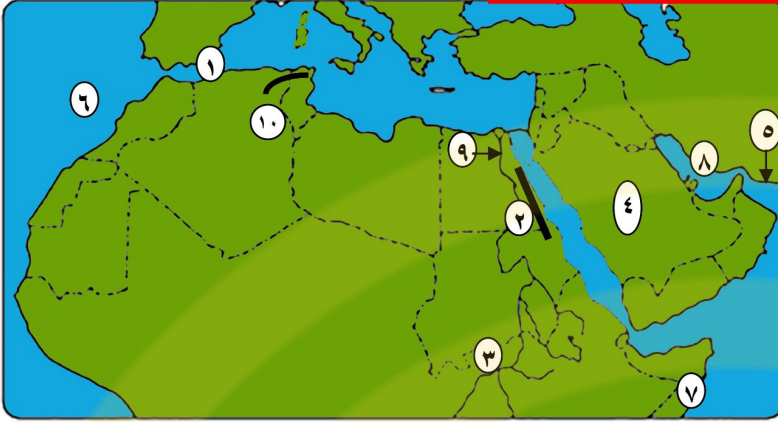


أقوى ملخص دراسات اجتماعية الصف الثاني الإعدادي
بالخرائط الملونة
جغرافيا & تاريخ

الصف الثاني الإعدادي ترم 1

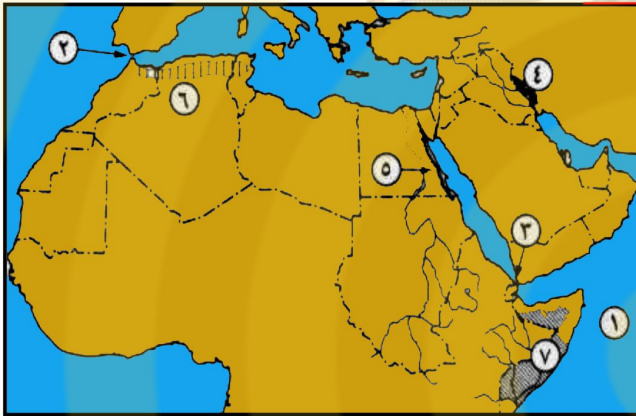
الجغرافيا:-

أمامك خريطة للوطن العربي اكتب عليها مدلول الأرقام الآتية :-



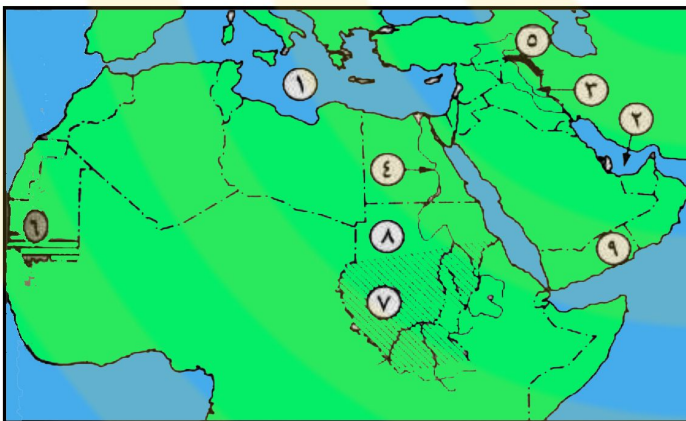
- ١) مضيق جبل طارق
- ٢) جبال البحر الأحمر الانكسارية.
- ٣) إقليم مناخي المداري
- ٤) هضبة نجد
- ٥) خليج عمان
- ٦) المحيط الأطلسي
- ٧) دولة الصومال
- ٨) الخليج العربي
- ٩) نهر النيل
- ١٠) جبال أطلس

أكتب ما تدل عليه الأرقام على خريطة الوطن العربي :



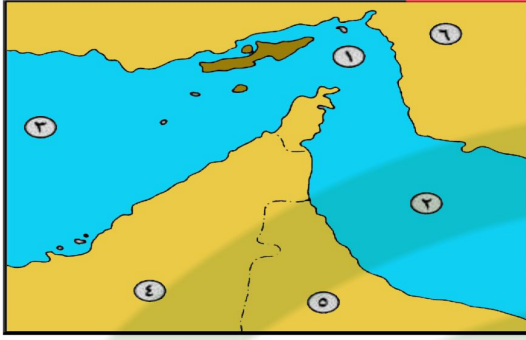
- ١ - المحيط الهندي
- ٢ - مضيق جبل طارق
- ٣ - مضيق باب المندب
- ٤ - جبال زاغروس
- ٥ - جبال البحر الأحمر
- ٦ - هضبة الشطوط
- ٧ - إقليم مناخي المداري

أكتب ما تدل عليه الأرقام على خريطة الوطن العربي :



- ١ - البحر المتوسط
- ٢ - الخليج العربي
- ٣ - نهر دجلة
- ٤ - نهر النيل
- ٥ - جبال زاغروس
- ٦ - إقليم نباتي حشائش حارة (سافانا)
- ٧ - إقليم مناخي المداري
- ٨ - دولة السودان
- ٩ - دولة اليمن

أمامك خريطة لأحد المضائق بالوطن العربي أكتب مدلول الأرقام عليها :



١ - مضيق هرمز

٢ - خليج عمان

٣ - الخليج العربي

٤ - دولة الإمارات العربية المتحدة

٥ - دولة عمان

٦ - دولة إيران

ضع بين القوسين ما تشير إليه كل عبارة من العبارات الآتية :-

- ★ مسطح مائي يفصل بين الوطن العربي الآسيوي والافريقي .
- ★ دولة عربية تقع عند دائرة عرض ١٢ جنوباً .
- ★ يربط بين الخليج العربي وخليج عمان ثم المحيط الهندي .
- ★ يربط بين البحر المتوسط والمحيط الأطلنطي .
- ★ يربط بين البحر الأحمر وخليج عدن ثم المحيط الهندي .
- ★ تربط البحر المتوسط بالبحر الأحمر .
- ★ مدن مغربية تقع تحت الاستعمار .
- ★ جبال تجدد الوطن العربي من الشمال .
- ★ جبال تجدد الوطن العربي من الشمال الشرقي .
- ★ حركات باطنية كبرى أدت إلى تكوين الجبال المرتفعة .
- ★ حركات باطنية أصابت الصخور الصلبة وأدت إلى ارتفاع بعضها وانخفاض بعضها .
- ★ أدت إلى ظهور الجبال والهضاب البركانية .
- ★ تتمثل في نحت الماء للصخور وإرسابها وينتج عنها أشكال مثل الأودية الجافة .
- ★ تتمثل في نحت الرياح للصخور وإرسابها وينتج عنها أشكال مثل الكثبان الرملية .
- ★ كانت تملأها المياه قديماً ثم جفت وتستخدم حالي كطرق للمواصلات .
- ★ تجمعات رملية مختلفة الأشكال والأحجام لها مناظر رائعة .
- ★ منخفضات خضراء في وسط الصحراء يعيش بها السكان وتربى فيها الحيوانات .
- ★ كونتها الأنهار عن طريق ترسيب المواد العالقة بمياهها .
- ★ هضبة تكونت نتيجة الثورات البركانية .
- ★ هضبة تنحصر بين جبال أطلس .
- ★ تمتد على طول الساحل الشرقي للبحر المتوسط وتحتصر بينها عدة سهول .
- ★ تمتد شمال إفريقيا وتعتبر أكثر الهضاب اتساعاً .
- ★ تأخذ شكل مثلث بين جبال أطلس .
- ★ من واحات الوطن العربي وتوجد في ليبيا .
- ★ أحد الأودية الجافة في مصر .
- (البحر الأحمر)
- (جزر القمر)
- (مضيق هرمز)
- (مضيق جبل طارق)
- (مضيق باب المندب)
- (قناة السويس)
- (سبته ومليلة)
- (جبال طوروس)
- (زاجروس و كردستان)
- (الحركات الالتوائية)
- (الحركات الانكسارية)
- (الثورات البركانية)
- (التعرية المائية)
- (التعرية الهوائية)
- (الأودية الجافة)
- (التكوينات الرملية)
- (الواحات)
- (السهول الفيضية)
- (هضبة اليمن)
- (هضبة الشطوط)
- (جبال الشام)
- (هضبة أفريقيا الشمالية)
- (هضبة الشطوط)
- (واحة الكفرة)
- (وادي العلاقي)

- ★ تجمعات رملية بين مصر وليبيا .
- ★ ساعد على انتقال الثقافة الإسلامية والدين الاسلامى إلى قلب أفريقيا .
- ★ حشائش تنمو في جنوب الوطن العربى تربي عليها الماشية والأغنام .
- ★ ينمو تلقائيا في الطبيعة دون تدخل الإنسان .
- ★ نوع من أشجار الغابات المعتدلة اتخذتها لبنان شعارا لها .
- ★ غابات تنمو في شمال الوطن العربى فوق منحدرات الجبال .
- ★ تعتبر حديقة حيوان طبيعية .
- ★ أشجار تستغل في الحصول على الصمغ العربى .
- ★ نوع من الحشائش تنمو في شمال الوطن العربى تربي عليها الأغنام والماعز .
- ★ انتقال الأفراد داخل حدود دولتهم بهدف الإقامة و العمل .
- ★ انتقال الأفراد خارج حدود دولتهم بهدف الإقامة و العمل .
- ★ الزيادة في عدد السكان في فترة زمنية معينة .
- ★ إحصاء للسكان من حيث العدد والنوع والتعليم والإقامة والعمل والحالة الاجتماعية (تعداد السكان)
- ★ الزيادة الناتجة عن زيادة عدد المواليد عن عدد الوفيات . (زيادة طبيعية)
- ★ متوسط عدد السكان على المساحة التي يعيشون فيها . (كثافة السكان)
- ★ الحرف والأعمال التي يمارسها البشر في إطار القانون وتحقق لهم ربحا . (أنشطة اقتصادية)
- ★ سكان الصحراء الذين يعيشون حياة التنقل والترحال . (البدو)
- ★ السكان الذين يعملون بالزراعة و تربيته الحيوانات . (الريفيون)
- ★ السكان الذين يشتغلون بالصناعة والتجارة . (سكان المدن)
- ★ أحياء نشأت دون تخطيط حول المدن الكبيرة . (الأحياء العشوائية)
- ★ اكبر الدول العربية في نسبة الالتحاق بالتعليم . (فلسطين)
- ★ قيام شخص بالإنفاق وتحمل مسؤولية الآخرين . (الإعالة)
- ★ افتقاد الشخص لمهارات القراءة والكتابة . (أمية)

أكمل العبارات الآتية بكلمات مناسبة :-

- ★ تمتد أراضى الوطن العربى في قارتي ... و ويفصل بينهما
- ★ يطل الوطن العربى على محيطين هما غرب و جنوب (المحيط الاطلسي - المحيط الهندي)
- ★ يجد الوطن العربى من الشمال جبال والبحر (طوروس - المتوسط)
- ★ يجد الوطن العربى من الشمال الشرق جبال (زاغروس وكردستان)
- ★ يقع الوطن العربى بين دائرتي عرض ... و .. وخطى طول .. و .. (٦٠ شرقا - ١٧ غربا - ٢ جنوبا - ٣٧.٥ شمالا)
- ★ يمر في الوطن العربى دائرتين عرض رئيسيتان هما و (دائرة الاستواء - مدار السرطان)
- ★ من حضارات الوطن العربى و .. (الحضارة المصرية القديمة - حضارة بلاد بين النهرين في العراق)
- ★ يعتبر الوطن العربى مهد وهى و و (الديانات السماوية الثلاثة ، اليهودية والمسيحية والإسلامية)

- ★ تقع خارج حدود الوطن العربى دولة حيث تقع عند دائرة عرض (جزر القمر - ١٢ جنوباً)
- ★ تنقسم تضاريس الوطن العربى إلى أقسام وهى وثلاثة (الجبال و الهضاب والسهول)
- ★ العوامل التى أثرت في تشكيل سطح الوطن العربى هي عوامل و (باطنية - خارجية)
- ★ تنقسم العوامل الباطنية إلى و و (حركات التوائية - حركات انكسارية - ثورات بركانية)
- ★ الحركات الالتوائية هي حركات أدت إلى تكوين (باطنية كبرى - سلاسل جبلية مرتفعة)
- ★ الحركات الانكسارية هي حركات باطنية أصابت .. وأدت إلى (الصخور الصلبة - ارتفاع بعضها وانخفاض بعضها)
- ★ الثورات البركانية أدت إلى ظهور مثل (الجبال والهضاب البركانية - هضبة اليمن)
- ★ تنقسم العوامل الخارجية إلى و (تعرية مائية - تعرية هوائية)
- ★ ينتج عن التعرية المائية أشكال مثل (الدالات) (الأودية الجافة)
- ★ ينتج عن التعرية الهوائية أشكال مثل (الكثبان الرملية)
- ★ من أمثلة الجبال الالتوائية و و (زاجروس وكردستان - عمان - أطلس)
- ★ من أمثلة الجبال الانكسارية و (جبال الشام - جبال البحر الأحمر)
- ★ تمتد جبال أطلس من .. إلى .. في دول .. و .. و .. (الغرب - الشرق - المغرب - الجزائر - تونس)
- ★ تتكون جبال أطلس من سلسلتين في الشمال و في الجنوب (أطلس التل - أطلس الصحراء)
- ★ تحصر جبال أطلس بينها هضبة في دولة (الشطوط - الجزائر)
- ★ تمتد جبال البحر الأحمر على جانبي وتعرف في مصر والسودان باسم وفي السعودية تعرف باسم و (البحر الأحمر - جبال البحر الأحمر - الحجاز - عسير)
- ★ تمتد جبال الشام على الساحل للبحر المتوسط وتحصر بينها عدة تجري فيها الأنهار مثل .. و .. و ... (الشرقي - سهول - العاصي - الليطاني)
- ★ هضاب القسم والافريقي للوطن العربى و (هضبة أفريقيا الشمالية - هضبة الشطوط)
- ★ تعتبر أكبر الهضاب مساحة (هضبة أفريقيا الشمالية)
- ★ تمتد هضبة أفريقيا الشمالية من غرب إلى شرق ومن شمالاً إلى جنوباً (المحيط الأطلسي - جبال البحر الأحمر - البحر المتوسط - وسط إفريقيا)
- ★ هضاب القسم الآسيوي للوطن العربى .. في الجنوب و .. في الوسط و .. في الشمال (حضرموت - نجد - بادية الشام)
- ★ هي منخفضات خضراء في (الواحات - الصحراء)
- ★ من أمثلة الواحات في مصر و في ليبيا (سيوه - الكفرة)
- ★ كانت تملأها مياه الأمطار قديم. ثم جفت (الأودية الجافة)
- ★ تستخدم الأودية الجافة حاليه ونحصل منها على .. (طرق للمواصلات - المياه الجوفية)
- ★ من أمثلة الأودية الجافة في مصر (وادي العلاقي)
- ★ تجمعات رملية مختلفة الأشكال والأحجام (التكوينات الرملية)
- ★ من أمثلة التكوينات الرملية و (الكثبان الرملية - بحر الرمال العظيم)
- ★ يوجد بحر الرمال العظيم بين و (مصر - ليبيا)
- ★ تنقسم السهول إلى و (السهول الفيضية - السهول الساحلية - السهول الصحراوية)
- ★ توجد السهول الفيضية حول .. بينما السهول الساحلية توجد بالقرب من .. و .. (الأنهار - البحار - المحيطات)

★ السهول الفيضية هي التي كونتها .. عن طريق ترسيب .. مما أدى لتكون ... صالحة للزراعة (الأنهار – المواد العالقة بمياهها – تربة خصبة)

★ من أمثلة السهول الفيضية في مصر والسودان و في العراق و في الأردن و في الصومال

(نهر النيل – دجلة والفرات – الأردن – جوبا وشبيلي)

(الوحدة العربية)

★ لم تقف تضاريس الوطن العربي عائق في طريق

★ من السهول الساحلية الصالحة للزراعة سهول والسهول التي تستخرج منها الثروة المعدنية ومصادر الطاقة

(البحر المتوسط – البحر الأحمر – الخليج العربي)

★ ساعد تنوع المناخ على تنوع و

(النبات الطبيعي – المحاصيل الزراعية)

★ العوامل التي تؤثر في مناخ الوطن العربي و و و

(الموقع بالنسبة لدوائر العرض – القرب أو البعد عن المسطحات المائية – التضاريس)

★ تغطي المنطقة معظم مساحة الوطن العربي ما عدا الأجزاء الشمالية فتقع في المنطقة

لبعدها عن (المدارية الحارة – المعتدلة – خط الاستواء)

(المناخ المعتدل)

★ تتميز المناطق المطلة على البحار ب

★ يعرف مناخ الجهات الداخلية بالمناخ ويتميز ب صيف و شتاء

(انقاري – ارتفاع الحرارة – انخفاض الحرارة)

★ من المدن الساحلية في الوطن العربي والمدن القارية (الإسكندرية – الرياض)

★ تنخفض درجة الحرارة كلما ارتفعنا عن سطح البحر مثل جبال (١٥٠ متر - لبنان)

★ يؤثر اتجاه في توزيع كمية المطر لذلك نجد سفوح الجبال أغزر مطر من السفوح

الداخلية مثل جبال (الكتل الجبلية – المواجهة للبحر – أطلس)

(ثلاثة)

★ ينقسم الوطن العربي إلى أقاليم مناخية

★ الأقاليم المناخية في الوطن العربي هي و و (البحر المتوسط – الصحراوي – المداري)

★ من الدول التي تنتمي لإقليم البحر المتوسط و و (مصر – ليبيا – تونس)

★ يقع إقليم البحر المتوسط في الأطراف من الوطن العربي (الشمالية)

★ يتميز إقليم البحر المتوسط صيف ب وشتاء بأنه (حار جاف – معتدل ممطر)

★ يشغل الإقليم الصحراوي من مساحة الوطن العربي (٨٠ ٪)

★ يمتد الإقليم الصحراوي بين إقليم شمالاً وإقليم جنوب (البحر المتوسط – المداري)

★ يتميز الإقليم الصحراوي صيف ب وشتاء بأنه (شديد الحرارة في النهار – شديد البرودة في الليل)

★ يقع الإقليم المداري في الوطن العربي ويتمثل في و و

(جنوب – وسط وجنوب السودان – جنوب موريتانيا – جنوب غرب الجزيرة العربية)

★ يتميز الإقليم المداري صيف ب وشتاء بأنه (ارتفاع الحرارة وسقوط المطر – انخفاض الحرارة والجفاف)

★ تنمو الغابات المدارية في الوطن العربي وتوجد في و و

(أقصى جنوب – أقصى جنوب السودان – جنوب الصومال – جنوب اليمن)

★ من أشجار الغابات المدارية أشجار التي تستغل في الحصول على (السنط – الصمغ العربي)

★ تتدرج أشجار الغابات المدارية في الكثافة من .. إلى بسبب (الجنوب – الشمال – تناقص كمية المطر)

- ★ تنمو الغابات المعتدلة في الوطن العربي فوق غزيرة الأمطار التي تسقط في فصل مثل جبال ومرتفعات وشمال
- (شمال - منحدرات الجبال - الشتاء - أطلس - بلاد الشام - العراق)
- ★ من أشجار الغابات المعتدلة و و (البلوط الفلبيني - الأرز - الزيتون)
- ★ اتخذت لبنان شعار لها (أشجار الأرز)
- ★ تتمثل الحشائش في الوطن العربي في و (السافانا - الاستبس)
- ★ تنمو حشائش السافانا في الوطن العربي إلى الشمال من (جنوب - الغابات المدارية)
- ★ تزدهر حشائش السافانا في فصل وتندرج في الطول من إلى (الصيف - الجنوب - الشمال)
- ★ توجد السافانا في دول و و (السودان - الصومال - موريتانيا - اليمن)
- ★ توجد في السافانا حيوانات آكلة العشب مثل .. و وحيوانات آكلة اللحوم مثل و (الزراف - الأفيال - الأسود - النمور)
- ★ تنمو الحشائش المعتدلة (الاستبس) في الوطن العربي بين إقليم والإقليم
- (شمال - البحر المتوسط - الإقليم الصحراوي)
- ★ تزدهر الحشائش المعتدلة (الاستبس) في فصل (الشتاء)
- ★ تختلف النباتات الصحراوية حسب (كمية المطر)
- ★ في الصحراء عندما يقل المطر تنمو وعندما يندثر المطر تنمو و
- (الحشائش القصيرة - النباتات الشوكية - الصبار)
- ★ من الحيوانات في الإقليم الصحراوي ... و و (الغزال - الإبل - الماعز - الزواحف)
- ★ عدد سكان الوطن العربي (٢٠١٩) نسمة أي % من سكان العالم (٤٢٨ مليون - ٥.٥)
- ★ معدل النمو السكاني في الوطن العربي يبلغ (٢.٦ %)
- ★ المناطق المرتفعة الكثافة السكانية جدا و (وادي النيل ودلتاه في مصر)
- ★ المناطق المتوسطة الكثافة و (الجهات الساحلية في بلاد الشام - شمال إفريقيا)
- ★ المناطق المنخفضة الكثافة و و (هضبة الشطوط بالجزائر - شمال ليبيا - إقليم مريوط - شمال سيناء)
- ★ المناطق نادرة السكان (الصحارى العربية)
- ★ يتركز السكان في السهول .. حول مجارى الأنهار وأماكن .. ومناطق . (الفيضية - سقوط الأمطار - المياه الجوفية)
- ★ العوامل الطبيعية المؤثرة في توزيع السكان في الوطن العربي و و
- (موارد المياه والتربة الخصبة - التضاريس - المناخ)
- ★ يتركز السكان في المناطق ذات المناخ ويقولون في المناطق ذات المناخ (المعتدل والمطر - الجاف والحر)
- ★ العوامل البشرية المؤثرة في توزيع السكان في الوطن العربي و و
- (الأنشطة الاقتصادية - الصراعات والحروب - النقل والمواصلات)
- ★ ترتفع الكثافة السكانية في المناطق الزراعية مثل و (مصر - العراق)
- ★ يتركز السكان في مناطق و ... لتوفر فرص العمل وارتفاع الدخل (التعدين - استخراج مصادر الطاقة)

- * ظهرت المشكلة السكانية في الوطن العربي بسبب عدم التوازن بين ... و .. (عدد السكان - الموارد الاقتصادية المتاحة)
- * دول الفائض السكاني تعاني من فائض في ... وقلة في وقوة عاملة تعاني . (عدد السكان - الموارد - البطالة)
- * من دول الفائض السكاني في الوطن العربي و و (سوريا - لبنان - مصر)
- * دول العجز السكاني تعاني من نقص في وزيادة في (عدد السكان - الموارد - البطالة)
- * من دول العجز السكاني في الوطن العربي و (دول الخليج العربي - الكويت)
- * تختلف خصائص السكان في الوطن العربي حسب أو (طبيعة المكان - النشاط الاقتصادي)
- * ينقسم سكان الوطن العربي إلى .. أنماط هم ... و و (ثلاثة - البدو - الريفيون - سكان المدن)
- * تناقص أعداد البدو في الوطن العربي بسبب هجرة الكثير منهم إلى وتحولهم للعمل في
- * وقيام الدول بـ في قرى (القرى والمدن - التعدين - توطينهم)
- * يمثل الريفيون نحو من مجموع سكان الوطن العربي . (٤٥%)
- * يمثل سكان المدن نحو من مجموع سكان الوطن العربي (٥٥%)
- * من المدن الصناعية في مصر (العاشر من رمضان)
- * تزايد أعداد سكان المدن في الوطن العربي بسبب قيام كما في دول الخليج إنشاء الدول العربية
- * كما في سوريا ومصر (المدن البترولية - المدن الصناعية)
- * أهم المشكلات التي تواجه المدن (الأحياء العشوائية)
- * الخصائص الاجتماعية والاقتصادية لسكان الوطن العربي و و و
- * (الاهتمام بالتعليم - تنوع الأنشطة الاقتصادية - ارتفاع مكانة المرأة - التمسك بالقيم والأخلاق الحميدة)
- * زادت نسبة الملتحقين بالتعليم قبل الجامعي إلى (٦٥.٥%)
- * تمثل قوة العمل العربية من عدد سكان وطننا العربي (٦٣.٥%)
- * ترتفع نسبة الإعاقة بسبب ارتفاع وضعف مشاركة في سوق العمل وارتفاع من هم في
- * بالنسبة إلى عدد السكان (معدلات الإنجاب - المرأة - سن التعليم)
- * وصلت نسبة التحاق الإناث بالتعليم الابتدائي إلى (٧٧%)
- * كانت نسبة التحاق الإناث بالتعليم الابتدائي ضعيفة بسبب (بعض العادات والتقاليد التي تمنع تعليم الإناث)

ضع كلمة (صح) أمام العبارة الصحيحة أو كلمة (خطأ) أمام العبارة الخطأ مع تصويب الخطأ :-

- * تتحكم دولة السعودية في مضيق هرمز. (خطأ) دولة إيران
- * تتركز الجبال على أطراف الوطن العربي. (صح)
- * تسمى الحشائش الحارة باسم السافانا. (صح)
- * تشغل الغابات المعتدلة معظم مساحة الوطن العربي. (خطأ) النباتات الصحراوية
- * تعرف مرتفعات البحر الأحمر بالجناح الآسيوي باسم جبال الحجاز وعسير واليمن. (صح)
- * تمتد جبال أطلس في شمال غرب قارة أفريقيا. (صح)
- * تقع هضبة الشطوط بين جبال لبنان الشرقية والغربية. (خطأ) جبال أطلس التل والصحراء
- * تكوينات بحر الرمال تمتد بين مصر والسودان. (خطأ) بين مصر وليبيا

- ★ خلق الاستعمار مشكلة دارفور للسيطرة على خيرات السودان. (صح)
- ★ من آثار التعرية الهوائية تكون الأودية الجافة. (خطأ)
- ★ التعرية المائية
- ★ الوطن العربي مهبط الديانات السماوية ومهد الحضارات. (صح)
- ★ يتميز الإقليم المداري بسقوط الأمطار الغزيرة في فصل الشتاء. (خطأ)
- ★ فصل الصيف
- ★ يجري نهر الليطاني في أراضى دولة لبنان ونهر العاصي في أراضى دولة سوريا. (صح)
- ★ يربط مضيق هرمز بين البحر الأحمر والمحيط الهندي. (خطأ)
- ★ مضيق باب المندب
- ★ يقع وادي العلاقى داخل أراضى مصر. (صح)
- ★ يقع معظم وطننا العربي في المنطقة المدارية الحارة. (صح)
- ★ يمتد الوطن العربى داخل ٧٧ خط طول. (صح)
- ★ يمر بالوطن العربى خط جرينتش. (صح)
- ★ يمر مدار الجدي بوسط الوطن العربى. (خطأ)
- ★ مدار السرطان
- ★ يميز هضبة إفريقيا الشمالية أنها أكثر الهضاب ارتفاعاً في الوطن العربى. (صح)
- ★ أكثر المناطق حرارة هي القريبة من خط الاستواء. (صح)
- ★ تتخذ سوريا من الأرز شعاراً لها. (خطأ)
- ★ دولة لبنان
- ★ تتركز الغابات المعتدلة فوق مرتفعات اليمن. (خطأ)
- ★ بلاد الشام
- ★ تزدهر الاستبس شتاءً وتجف صيفاً. (صح)
- ★ تسقط الأمطار شمال الوطن العربى شتاءً. (صح)
- ★ تسقط الأمطار في الإقليم الصحراوي على هيئة سيول أحياناً. (صح)
- ★ تنتشر النباتات الصحراوية في مساحة صغيرة من الوطن العربى. (خطأ)
- ★ في مساحة كبيرة
- ★ تنتمي صناعاً للإقليم البحر المتوسط. (خطأ)
- ★ الإقليم المدارى
- ★ تنتمي مدينة جوبا جنوب السودان للإقليم المدارى. (صح)
- ★ تنمو أشجار الأرز في الغابات المعتدلة. (صح)
- ★ تنمو أشجار الساج والماهوجني على مرتفعات الشام. (خطأ)
- ★ الأرز والصنوبر
- ★ تنمو أشجار السنط جنوب السودان. (صح)
- ★ تنمو الحشائش الحارة بين إقليم الغابات المعتدلة ونباتات الصحارى. (خطأ)
- ★ شمال الغابات المدارية
- ★ تنمو السافانا الطويلة قرب الإقليم الصحراوي. (خطأ)
- ★ السافانا القصيرة
- ★ تنمو السافانا شمال الوطن العربى. (خطأ)
- ★ جنوب الوطن العربى
- ★ تنمو الغابات المدارية أقصى جنوب الوطن العربى. (صح)
- ★ تنمو النباتات الصحراوية حيث تندر الأمطار. (صح)
- ★ الجهات الساحلية معتدلة الحرارة صيف وشتاءً. (صح)
- ★ شهر ديسمبر أكثر الشهور مطر في بيروت. (صح)
- ★ صناعاً تنتمي إلى المناخ المدارى. (صح)
- ★ الغابات المدارية تنمو شمال الوطن العربى. (خطأ)
- ★ جنوب الوطن العربى
- ★ من أشجار الغابات المعتدلة الساج. (خطأ)
- ★ البلوط الفليني و الأرز

★ المناخ الصحراوي يصيبه بعض الأمطار الشتوية في الجهات الشمالية. (صح)

★ المناخ القاري معتدل الحرارة صيفا وشتاء. (خطأ)

★ المناخ القاري هو مناخ المناطق القريبة من البحر. (خطأ)

★ يتمثل المناخ القاري في جنوب الوطن العربي. (صح)

★ يتمثل المناخ المداري جنوب ووسط موريتانيا. (خطأ)

★ يتميز الإقليم المداري بالجفاف في فصل الشتاء. (صح)

★ يستخدم الساج في صناعة الأثاث. (صح)

★ يستخرج الصمغ العربي من أشجار البلوط. (خطأ)

★ يشغل إقليم البحر المتوسط ٨٠٪ من مساحة الوطن العربي. (خطأ)

★ يشغل الإقليم الصحراوي الجزء الأكبر من الوطن العربي. (صح)

★ يشغل الإقليم المعتدل معظم مساحة الوطن العربي. (خطأ)

★ يطلق على إقليم الحشائش المعتدلة حشائش الاستبس. (صح)

★ يظهر المناخ المداري جنوب موريتانيا. (صح)

★ يميز أشجار الغابات المعتدلة أنها من النوع المقاوم للجفاف. (صح)

★ إقليم مريوط من المناطق مرتفعة الكثافة. (خطأ)

★ تتنوع الأنشطة الاقتصادية في الوطن العربي. (صح)

★ ترتفع الكثافة السكانية حيث تنتشر حرفة الرعي. (خطأ)

★ ترتفع الكثافة السكانية في مناطق الصراعات والحروب. (خطأ)

★ ترتفع الكثافة السكانية في وادي النيل بمصر والسودان. (صح)

★ التضاريس وموارد المياه من العوامل التي تؤثر في توزيع السكان. (صح)

★ تعاني الكويت من عجز في الأيدي العاملة. (صح)

★ تعتبر التضاريس من العوامل البشرية التي تؤثر في توزيع السكان. (خطأ)

★ تعمل المرأة في المهن المتدنية المستوى. (خطأ)

★ تقام الأحياء العشوائية على أطراف القرى. (خطأ)

★ تقل نسبة النساء المشاركات بسوق العمل في وطننا العربي. (خطأ)

★ تمثل قوة العمل نسبة ٦٣.٥٪ من عدد سكان الوطن العربي. (صح)

★ تنخفض الكثافة السكانية بمدينة القاهرة. (خطأ)

★ تنخفض الكثافة السكانية في المناطق الرعوية. (صح)

★ تنخفض نسبة الوفيات لارتفاع مستوى المعيشة. (صح)

★ تهتم الحكومات العربية بإقامة المدن الصناعية مثل العاشر من رمضان في مصر. (صح)

★ الجهات الساحلية بوطننا العربي تتميز بندرة السكان. (خطأ)

★ حصلت المرأة العربية على كثير من حقوقها في الفترة الأخير. (صح)

★ دول الفائض السكاني تعاني من فائض في القوة العاملة ونقص الموارد. (صح)

★ سكان الحضر هم الذين يعيشون في القرى. (خطأ)

المدن

- ★ سكان الريف في تناقص مستمر. (صح)
- ★ سكان وطننا العربي لا تجمع بينهم عادات وتقاليد مشتركة. (خطأ) تجمع بينهم عادات وتقاليد
- ★ لا تحرص الدول العربية على تطوير المدن الموجودة بها. (خطأ) تطور الدول العربية المدن
- ★ لا تزال ترتفع نسبة الوفيات بوطننا العربي. (خطأ) تنخفض نسبة الوفيات
- ★ لا تمثل وسائل النقل والمواصلات عاملاً مؤثراً في توزيع السكان. (خطأ) يؤثر النقل والمواصلات في توزيع السكان
- ★ لا تهتم الحكومات العربية بالتعليم خاصة قبل الجامعي. (خطأ) يهتم بالتعليم قبل الجامعي
- ★ لا يوجد بوطننا العربي أي أحياء عشوائية. (خطأ) توجد أحياء عشوائية
- ★ معظم مساحة الوطن العربي مناطق نادرة السكان. (صح)
- ★ من الدول التي أثرت فيها الحروب على توزيع السكان الكويت. (خطأ) فلسطين
- ★ من أهم القيم والأخلاق الحميدة السائدة بين سكان وطننا العربي التفكك الأسري. (خطأ) الترابط الأسري
- ★ من أهم خصائص البدو الاستقرار وعدم التنقل. (خطأ) الترحال وعدم الاستقرار
- ★ الهجرة الخارجية تعنى انتقال الفرد خارج حدود دولته بهدف الإقامة والعمل. (صح)
- ★ يبلغ عدد سكان وطننا العربي حوالى ٤٢٨ (٢٠١٩) م نسمة. (صح)
- ★ يبلغ معدل النمو السكاني بوطننا العربي حوالى ٦.٢٪. (خطأ) ٢.٦٪
- ★ يتركز بعض السكان في الصحارى حيث مناطق التعدين. (صح)
- ★ يتميز البدو بالتنقل والترحال. (صح)
- ★ يتميز سكان الريف بالتزايد المستمر. (خطأ)
- ★ يتميز سكان وطننا العربي بالتنوع والاختلاف. (صح)
- ★ يتميز سكان وطننا العربي بوحدة اللغة فقط. (خطأ) وحدة اللغة والمكان والتاريخ والعادات والتقاليد
- ★ يتميز معدل الأمية في وطننا العربي بالانخفاض. (خطأ) بالارتفاع حوالى ٢٧٪
- ★ يزيد عدد السكان فوق المرتفعات. (خطأ) يقل السكان فوق المرتفعات
- ★ يعد المناخ من العوامل البشرية المؤثرة في توزيع السكان. (خطأ) العوامل الطبيعية
- ★ يعمل سكان المدن في الزراعة. (خطأ) الصناعة والتجارة والوظائف الحكومية
- ★ يفضل السكان الإقامة في المناطق السهلية الخصبة. (صح)
- ★ يفضل سكان اليمن المناطق السهلية ويهجرون المرتفعات. (خطأ) يتركزون فوق المرتفعات
- ★ يمثل نبط سكان الحضر أكثر من نصف سكان الوطن العربي. (صح)
- ★ ينتقل السكان العرب للعمل في دول الخليج العربي. (صح)
- ★ ينقسم سكان الوطن العربي حسب طريقة معيشتهم إلى أربعة أنماط. (خطأ) ثلاثة أنماط
- ★ يهاجر معظم البدو الرحل الآن للقرى والمدن القريبة. (صح)
- ★ يهرب السكان من الإقامة من مناطق التعدين بوطننا العربي. (خطأ) يتركز السكان في مناطق التعدين

بم تفسر

★ أهمية موقع الوطن العربي الحضارية والدينية؟

أ- قيام الحضارات القديمة على أرضه

ب- مهد للديانات السماوية الثلاثة (الإسلام والمسيحية واليهودية)

ج- وجود الأماكن المقدسة بأراضيه

★ للوطن العربي قيمة روحية عظيمة في نفوس سكان العالم؟

- بسبب وجود الأماكن المقدسة بأراضيه التي يقصدها الناس للزيارة

★ تتحكم الوطن العربي في طرق التجارة العالمية خلال العصور؟

- بسبب موقعه المتوسط بين قارات العالم القديم

★ تنوع الموارد الاقتصادية في الوطن العربي؟

- بسبب تنوع الأقاليم المناخية والحياة النباتية به

★ أهمية المضائق والممرات المائية في الوطن العربي؟

- تتحكم في طرق الملاحة العالمية وتزيد أهميتها وقت الحروب

★ تعرض الوطن العربي لمحاولات الاستيلاء عليه من الدول الاستعمارية الكبرى؟

- بسبب ما يمتلكه من أهمية حضارية واقتصادية واستراتيجية

★ احتفاظ الوطن العربي بشخصيته العربية المميزة؟

- لان تحيط به حدود طبيعية من جميع الاتجاهات

★ انقسام الوطن العربي إلى دول مختلفة المساحة؟

- بسبب تعرضه للاستعمار الأوروبي الذي قسمه إلى دول مختلفة المساحة

★ وجود بعض المشكلات السياسية بين الدول العربية؟

الاستعمار قسم الوطن العربي إلى دول مختلفة في المساحة وعدد السكان وفصل الدول العربية عن بعضها بحدود سياسية مصطنعة

★ ظهور مشكلة فلسطين؟

- بسبب قيام الدول الاستعمارية بإقامة كيان استيطاني على أرضها حتى يقضى على الوحدة بين البلاد العربية

★ ظهور مشكلة جنوب السودان ودارفور؟

- بسبب سعى الدول الاستعمارية لتقسيم السودان والاستيلاء على خيراته

★ تنوع تضاريس الوطن العربي؟

- لأنها تنقسم إلى

أ- مناطق مرتفعة تتمثل في الجبال

ب- مناطق متوسطة الارتفاع تتمثل في الهضاب

ج- سهول وتتمثل في السهول الساحلية والفيضية

★ تكون الجبال الالتوائية؟

- بسبب الحركات الباطنية الكبرى التي أدت إلى تكوين الجبال المرتفعة

★ تكون الجبال الانكسارية؟ - بسبب الحركات الباطنية التي أصابت الصخور وأدت إلى ارتفاع بعضها وانخفاض بعضها

الصف الثاني الإعدادي

★ تكون الجبال والهضاب البركانية؟

- بسبب الثورات البركانية

★ تكون الأودية الجافة؟

- بسبب التعرية المائية التي تتمثل في نحت الماء للصخور وإرسابها

★ تكون الكثبان الرملية؟

- بسبب التعرية الهوائية التي تتمثل في نحت الرياح للصخور وإرسابها

★ أهمية الجبال؟

أ- تحفظ توازن الأرض أثناء دورانها ب- مصدر مهم للعديد من الثروات مثل المعادن

★ تسمية هضبة الشطوط بهذا الاسم؟

- نسبة إلى مجموعة البحيرات المالحة التي تنتشر فوق سطحها والتي تعرف بالشطوط

★ أهمية الأودية الجافة؟

أ- تستخدم كطرق للمواصلات ب- يسهل الحصول منها على المياه الجوفية

★ تعتبر السهول هي الجزء الثابت بالحياة في الوطن العربي؟

- لان السكان يفضلون السكن والإقامة فيها

★ تكون السهول الفيضية (وجود تربة خصبة في السهول الفيضية)

- لان الأنهار تقوم بترسيب المواد العالقة بمياهها مما أدى إلى تكون التربة الخصبة الصالحة للزراعة

★ ارتفاع الكثافة السكانية في مناطق السهول الفيضية؟

- بسبب وجود التربة الخصبة الصالحة للزراعة

★ أهمية السهول الساحلية المطلة على البحر المتوسط؟

- تعتبر أراضيها خصبة صالحة للزراعة

★ أهمية السهول الساحلية المطلة على البحر الأحمر والخليج العربي؟

- يستخرج منها الثروات المعدنية ومصادر الطاقة

★ ساعدت تضاريس الوطن العربي على وحدة أراضيه؟

أ- ساعدت الجبال والهضاب والبحار في الحفاظ على شخصيته العربية

ب- سهلت بحاره على الاتصال بالعالم الخارجي

ج- ساعد نهر النيل على انتقال الثقافة العربية والدين الاسلامي إلى قلب أفريقيا

★ لم يكن الوطن العربي منعزلاً عن العالم يوم ما؟

أ- سهلت بحاره على الاتصال بالعالم الخارجي

ب- ساعد نهر النيل على انتقال الثقافة العربية والدين الاسلامي إلى قلب أفريقيا

★ ارتفاع درجة الحرارة في الأجزاء الجنوبية للوطن العربي؟

- بسبب قربها من خط الاستواء

★ انخفاض درجة الحرارة في الأجزاء الشمالية للوطن العربي؟

- لبعدها عن خط الاستواء

★ تتميز الأجزاء الشمالية للوطن العربي المطلة على البحار بالمناخ المعتدل؟



- لان المسطحات المائية تعمل على تلطيف درجة الحرارة

★ تتميز المناطق الداخلي للوطن العربى بالمناخ القارى؟

- لأنها بعيدة عن تأثير المسطحات المائية

★ تغطى الثلوج بعض القمم الجبلية في الوطن العربى؟

- لان درجة الحرارة تنخفض كلما ارتفعنا ١٥٠ متر من سطح البحر

★ سفوح جبال أطلس المواجهة للبحر أغزر مطر من السفوح الداخلية؟

- لأنها مواجهة للبحر حيث يؤثر اتجاه الكتل الجبلية في توزيع كمية المطر

★ عدم سقوط المطر على شمال الوطن العربى صيفا؟

- بسبب هبوب الرياح التجارية الجافة .

★ سقوط الأمطار صيف على جنوب غرب شبه الجزيرة العربية؟

- بسبب هبوب الرياح الموسمية الممطرة صيف

★ سقوط الأمطار شتاء على شمال الوطن العربى؟

- بسبب تعرضه للرياح الغربية العكسية

★ تنوع النبات الطبيعى في الوطن العربى؟

- بسبب اختلاف درجات الحرارة وكمية المطر

★ تدرج كثافة أشجار الغابات المدارية من الجنوب للشمال؟

- بسبب تناقص كمية المطر

★ أهمية أشجار السنط؟

- يستخرج منها الصمغ العربى

★ أهمية الغابات المدارية؟

أ- توجد بها أشجار السنط الذى يستخرج منه الصمغ العربى

ب- تستغل أشجارها في صناعة الأثاث لصلابتها

★ نمو الغابات المعتدلة على جبال أطلس وجبال الشام وشمال العراق؟

- بسبب الأمطار الغزيرة شتاء

★ تزدهر حشائش السافانا صيف ؟

- بسبب سقوط الأمطار

★ تتدرج حشائش السافانا في الطول من الجنوب للشمال؟

- بسبب اختلاف كمية المطر

★ تعتبر حشائش السافانا حديقة حيوان طبيعية؟

- لان يوجد بها أنواع متعددة من الحيوانات مثل :

أ- آكلة العشب : مثل الزراف والأفيال

ب- آكلة اللحوم : مثل الأسود والنمور

★ تزدهر الحشائش المعتدلة شتاء وتجف صيفا؟

- بسبب سقوط الأمطار شتاء

★ تشغل النباتات الصحراوية مساحة كبيرة من الوطن العربى؟

- بسبب وقوع معظم مساحة الوطن العربي ضمن المناخ الصحراوي

★ اختلاف النباتات الصحراوية في الوطن العربي؟

- وذلك حسب كمية المطر :

أ- المناطق القليلة الأمطار :- تنمو بها الحشائش القصيرة

ب- المناطق النادرة الأمطار :- تنمو النباتات الشوكية والصبار

★ ارتفاع معدل نمو سكان الوطن العربي؟

١- الزيادة الطبيعية (ارتفاع عدد المواليد وانخفاض عدد الوفيات)

٢- الزيادة غير الطبيعية (الهجرة الداخلية والخارجية)

★ انخفاض معدل الوفيات في الوطن العربي؟

١- تحسن الأحوال الصحية ٢- ارتفاع مستوى المعيشة ٣- تقدم الرعاية الطبية للأطفال

★ ارتفاع معدل الوفيات في بعض الدول العربية؟

١- انتشار الأمراض والأوبئة ٢- قلة الرعاية الصحية ٣- انتشار الحروب

★ تسمى الهجرة بالزيادة غير الطبيعية؟

- لأنها تعنى انتقال الفرد من مكان إلى آخر بغرض الإقامة والعمل مما يؤثر على نمو السكان ، حيث يزيد عدد سكان الدول

المستقبلية للمهاجرين مثل دول الخليج العربي

★ تؤثر موارد المياه والتربة الخصبة في توزيع السكان؟

- حيث يتركز السكان في :

١- السهول الفيضية حول مجارى الأنهار

٢- أماكن سقوط الأمطار ٣- مناطق المياه الجوفية

★ تؤثر التضاريس في توزيع السكان؟

١- يتركز السكان في المناطق السهلية . ٢- يقل السكان فوق المرتفعات

★ يقل السكان فوق المرتفعات؟

- نظر لوعورة السطح وصعوبة استغلال الاراضى .

★ يؤثر المناخ في توزيع السكان؟

١- يتركز السكان في المناطق ذات المناخ المعتدل والممطر .

٢- يقل السكان في المناطق ذات المناخ الجاف والحر .

★ سكان اليمن ولبنان يفضلون سكنى الجبال؟

- لاعتدال مناخها

★ ترتفع الكثافة السكانية في مصر والسودان؟

- بسبب وجود مناطق الزراعة

★ ترتفع الكثافة السكانية في مدينة القاهرة؟

- بسبب وجود المناطق الصناعية

★ يتركز السكان في مناطق التعدين واستخراج الطاقة؟

- بسبب توفر فرص العمل وارتفاع الدخل



★ تقل الكثافة السكانية في الصحارى العربية؟

- بسبب وجود المناطق الرعوية

★ تؤثر الحروب على عدد السكان وكثافتهم؟

- لأنها تؤدي إلى مقتل أعداد كبيرة منهم أو إجبارهم على ترك بلادهم والانتقال للعيش في أماكن أخرى كما في العراق وفلسطين والصومال والسودان

★ يؤثر النقل والمواصلات على عدد السكان وكثافتهم؟

- توافر الطرق ووسائل النقل والمواصلات يؤدي لجذب السكان إلى المكان للاستقرار والعمل بينما عدم توافرها يؤدي إلى انصراف السكان عن المكان .

★ ظهور المشكلة السكانية في الوطن العربي؟

- بسبب عدم التوازن بين عدد السكان والموارد المتاحة

★ تنوع أنماط سكان الوطن العربي وأماكن إقامتهم؟

- لأنهم يتميزون بالذكاء والفضيلة لذلك استطاعوا العيش في تلك البيئات واستثمار مواردها .

★ يعيش البدو حياة التنقل والترحال؟

- بحثا عن الماء والعشب .

★ تناقص أعداد البدو في الوطن العربي؟

١ - هجرة الكثير منهم إلى القرى والمدن

٢ - تحول أعداد كبيرة منهم للعمل في التعدين

٣ - قيام الدول العربية بتوطينهم في قرى بهدف تعمير الصحراء

★ تناقص أعداد سكان القرى في الوطن العربي؟

- بسبب هجرة أهل الريف للمدن رغم جهود الدول العربية لوقفها

★ زيادة أعداد سكان المدن في الوطن العربي؟

١ - قيام المدن البترولية كما في دول الخليج

٢ - إنشاء الدول العربية المدن الصناعية كما في سوريا ومصر مثل العاشر من رمضان .

٣ - الهجرة من الريف إلى المدن .

★ يتميز سكان الوطن العربي بالنشاط والعمل؟

- لأنهم يمارسون أنشطة مثل : الزراعة والصناعة والتجارة والسياحة

★ ارتفاع نسبة الإعالة في الوطن العربي؟

١ - ارتفاع معدلات الإنجاب

٢ - ارتفاع نسبة البطالة بين الشباب

٣ - ارتفاع من هم في سن التعليم بالنسبة إلى عدد السكان .

٤ - ارتفاع نسبة كبار السن

★ تحظى المرأة في المجتمع العربي بمكانة متميزة؟

١ - أتاح لها المجتمع فرص للتعليم والعمل .

٢ - زادت نسبة التحاق الإناث بالتعليم الابتدائي فوصلت ٧٧ ٪

٢- زادت نسبة مشاركتهن في سوق العمل فأصبحت منهن المعلمة والطبيبة والوزيرة وعضو برلمان

★ كانت نسبة التحاق الإناث بالتعليم الابتدائي ضعيفة؟

- بسبب بعض العادات والتقاليد التي تمنع تعليم الإناث .

★ يميز مجتمعنا العربي العديد من القيم والأخلاق الحميدة التي تميزه عن بقية المجتمعات؟

١ - التمسك بالقيم الدينية

٢ - التمسك بالعادات والتقاليد الحسنة

٣ - الكرم وحسن الضيافة

٤ - الترابط الأسري

ما النتائج المترتبة على....؟

★ تحكم الوطن العربي في مضائق وممرات مائية مهمة؟

➤ ① تزايد الأهمية الإستراتيجية للوطن العربي . ② لعبت هذه الممرات دور مهم في التجارة العالمية .

③ تنافس الدول الاستعمارية في السيطرة على الوطن العربي ونهب ثرواته .

★ الموقع الجغرافي للوطن العربي ؟

➤ ① تحكم الوطن العربي في طرق التجارة العالمية خلال العصور التاريخية .

② أشرفه علي ثلاث بحار هامة هي البحر الأحمر والمتوسط والخليج العربي التي تلعب دور هام في التجارة العالمية

③ ساعد علي الاحتفاظ بشخصيته العربية المميزة بين الأمم

④ جميع الدول العربية تطل علي مسطحات مائية من بحار أو محيطات .

⑤ طمع الاستعمار في احتلال دوله وتقسيمه لدول صغيرة المساحة .

★ أهمية موقع الوطن العربي الإستراتيجية والاقتصادية؟

➤ ① تنافس الدول الاستعمارية في السيطرة على الوطن العربي .

② تقسيم الاستعمار الوطن العربي إلى دول مختلفة المساحة وعدد سكانها ويفصلها عن بعض حدود سياسية مصطنعة .

③ ظهور بعض المشكلات السياسية مثل مشكلة فلسطين ، مشكلة المدن المغربية ، مشكلة الجزر الاماراتية ، مشكلة دارفور

★ تنوع الأقاليم المناخية والحياة النباتية بالوطن العربي ؟

➤ تنوع موارده الاقتصادية .

★ اختلاف درجات الحرارة من بلد عربي إلى آخر؟

➤ ترتب على ذلك تنوع المناخ في بين البلاد العربية .

★ تنوع المناخ في الوطن العربي؟

➤ أدى ذلك إلى تنوع النباتات الطبيعية والمحاصيل الزراعية .

★ تنوع النباتات الطبيعية والمحاصيل الزراعية؟

➤ ساعد ذلك على إمكانية التكامل بين الدول العربية فيما بينها .

★ امتداد أراضي الوطن العربي بين دائرتي عرض ٢ جنوبا ، ٣٧.٥ شمالا ؟

مرور خط الاستواء بجنوب الوطن العربي و مدار السرطان بوسطه .

وقوع معظم أجزائه في المنطقة المدارية الحارة ما عدا الأجزاء الشمالية تقع في المنطقة المعتدلة لبعدها عن خط الاستواء .

* ارتفاع جبال لبنان؟

➤ وجود الجليد فوق قمة جبال لبنان

* مواجهة سفوح جبال أطلس الأمامية للرياح (للبحر)؟

➤ أصبحت سفوح جبال أطلس الأمامية أغزر مطر من السفوح الداخلية.

* نمو أشجار السنط بكثرة في السودان؟

➤ أصبحت السودان من أهم دول الوطن العربي إنتاجاً للصمغ العربي الذي يستخرج من أشجار السنط.

* تنوع حيوانات السافانا بين أكالات لحوم واكلات عشب؟

➤ ترتب على ذلك أن أصبحت السافانا تمثل حديقة حيوان طبيعية.

* قلة الأمطار في الإقليم الصحراوي؟

➤ ① نمو الحشائش القصيرة في المناطق قليلة الأمطار ② نمو النباتات الشوكية والصبار في المناطق نادرة الأمطار.

③ أصبح أكثر الأقاليم انتشار بالوطن العربي إذ يشغل ٨٠٪ من مساحة الوطن العربي.

* وجود حدود طبيعية تحيط بالوطن العربي؟ امتداد حدود الوطن العربي مع الظواهر الطبيعية؟

➤ ترتب على ذلك احتفاظ الوطن العربي بشخصيته العربية المميزة بين الأمم.

* اعتدال المناخ وسقوط الأمطار على بعض المناطق المرتفعة بالوطن العربي (لبنان واليمن)؟

➤ تفضيل السكان العيش بها مما جعل هذه المناطق مرتفعة الكثافة السكانية.

* اختلاف توزيع السكان بالوطن العربي؟

➤ حدوث خلل في توزيع الكثافة السكانية حيث أصبحت هناك : ➤

① مناطق مرتفعة الكثافة السكانية ② ومناطق متوسطة وأخرى نادرة الكثافة السكانية.

* قيام الصراعات والحروب في بعض الدول العربية؟

➤ تؤثر الصراعات والحروب على عدد السكان وكثافتهم حيث : ➤

① يقتل آلاف السكان ② إجبارهم على الفرار وترك منازلهم وبلادهم للعيش في أماكن أخرى. كما في العراق وفلسطين

* تحسن الأحوال الصحية والتقدم الطبي في معظم الدول العربية بالنسبة لنمو السكان؟

➤ أدى ذلك إلى انخفاض نسبة الوفيات في معظم البلاد العربية وبالتالي ارتفاع معدل نمو السكان.

* تزايد السكان بدرجة لا تتناسب مع الموارد السكانية؟

➤ يترتب على ذلك عدم التوازن بين النمو السكاني والموارد الاقتصادية وبالتالي ظهور المشكلة السكانية.

* الزيادة المستمرة في عدد سكان المدن في الوطن العربي؟

➤ ① تراجع مستوى الخدمات الصحية والتعليمية في المدن. ② ازدحام المدن والمواصلات والمدارس فيها.

* هجرة السكان بأعداد كبيرة من القرى إلى المدن في الوطن العربي؟

➤ ظهور المدن المليونية، كما في مصر والدار البيضاء.

➤ ظهور الأحياء العشوائية حول المدن الكبرى والتي تفتقر إلى المرافق وتدنّي بها مستوى الخدمات الصحية والاجتماعية.

* كثرة الأحياء العشوائية؟

➤ ① ظهور المشكلة السكانية بالمدين. ② افتقار الأحياء العشوائية للمرافق وتدنّي مستوى الخدمات الصحية والاجتماعية

③ اتجاه الحكومات إلى تطوير الأحياء العشوائية.

كره العرب لحكم الروم

أ - استنزفوا خيرات البلاد ب - عاملوا اهل البلاد معاملة سيئة ج - اعتمدوا في حكمهم على القوة والقهر
كان العالم في حاجة إلى مجيء محمد (صلى الله عليه وسلم)؟

ليرشد الناس إلى عبادة الله الواحد

لينشر قيم العدل والمساواة والتسامح والرحمة بعد انتشار الظلم والفساد

كانت شبه الجزيرة العربية مهد لرسالة محمد؟

لأنها منطقة هادئة بعيدة عن الصراعات والانحرافات * * ظهرت بها العديد من الحضارات والمدن والممالك

كان النظام القبلي هو السائد في شبه الجزيرة العربية

لأنها كانت عبارة عن قبائل متفرقة لكل منها شيخ يحكمها من بين افرادها ولها قانون يحجج واجبات كل فرد بها

هلاك قوم عاد وثمود؟ لأنهم كذبوا رسالهم

لم تكن أسواق العرب قبل الاسلام مجالاً للتجارة فقط؟

لأنها كانت ميدان للتنافس في الشعر والخطابة

انتشر بين العرب قبل الإسلام عادات سيئة

١ - الأخذ بالثأر ٢ - وأد البنات (دفن البنات أحياء)

٣ - شرب الخمر ٤ - لعب الميسر " القمار "

كان للعرب قبل الإسلام ببعض الأخلاق الحميدة مثل :

١ - الشجاعة ٢ - الكرم ٣ - الوفاء بالعهد

٤ - العفو عند المقدرة ٥ - حماية الجار ٦ - الصبر

حظيت بعض النساء في المجتمع العربي بمكانة عالية

مثل : السيدة خديجة بنت خويلد رضى الله عنها

كان لمكة مكانة تجارية هامة في شبه الجزيرة العربية؟

لأنهم كانوا يقومون برحلتى الشتاء الى اليمن والصيف الى الشام

انحراف أهل مكة ومن حولها عن التوحيد

لأن دخلت عليهم عبادة الاصنام فأخذت كل قبيلة منهم صنم تعبد

فشل أبرهة في هدم الكعبة؟

لأن الله حفظ بيته الحرام واهلك أبرهة وجيشه حيث أرسل عليهم طيرا محملة بأحجار محرقة ترميهم بها

تسمية سيدنا محمد ص بهذا الاسم؟ - ليكون محمودا في الارض والسماء

كان من عادات أشراف مكة ان يدفعوا بأبنائهم لرضعات من البادية الصحراء؟

لأن العيش في البداية يكسبهم فصاحة اللسان وقوة البنيان ورجاحة العقل

انتقال سيدنا محمد للعيش مع عمه بعد بلوغه الثامنة

- لأن والدته توفيت وهو في سن السادسة من عمره فكفله جده عبدالمطلب " وتوفي وهو في سن الثامنة فأوصى به عمه ابي طالب

خروج سيدنا محمد للعمل في رعي الأغنام رغم صغر سنه

لأن عمه كان فقيرا كثير الابناء فرفض أن يكون عبداً عليه ، وفضل أن يساعد عمه

تعلم الرسول ص من حرفة الرعي كثير من الصفات

أ- الصبر (يرضى الاغنام من بداية اليوم الى آخره) .

ب-التواضع (يحرس الاغنام وينام بجوارها) .

ج- الشجاعة (يحفظها من الحيوانات المفترسة) .

د- الرحمة والعطف (يساعد الاغنام اذا مرضت او اصببت بسوء)

تسمية سيدنا محمد بالصادق الأمين؟ - لأن عرف عنه الطهارة والعفة ورجاحة العقل و الصدق والأمانة

اعد الله سيدنا محمد لحمل رسالة الاسلام؟

أ- عاش طفولته وشبابه في رعاية ربه يعده لحمل رسالة الإسلام

ب- اتصف بالأخلاق الحميدة وعرف بالصادق الأمين

ج- لم يجعله الله يسجد لصنم قط

كان سيدنا محمد يمكث فترات طويلة في غار حراء

- ليتعبد فيه ويمكث فيه اياما بعيدا عن الناس يتأمل في خلق الله

بدأت الدعوة الى الاسلام سرا (دعوة الأقارب) في بادئ الأمر

خوفا من القضاء على الدعوة وهي في المهد - لأن الله لم يأذن لنبيه بالجهر بالدعوة

دعوة الرسول لم تفرق بين الناس وليست قائمة على العنصرية

أ- الذين اسلموا في نهاية المرحلة الاولى اربعين كانوا من كل فئات المجتمع (الاحرار - العبيد - الرجال - النساء - الشباب -

الفتيان) ب- ضمت اجناس اخرى مثل صهيب الرومي - وبلال الحبشي)

معارضة قريش وخاصة للدعوة الاسلامية

أ- ظنوا أن الدعوة الاسلامية ستهدد مصالحهم التجارية ومكانتهم بين القبائل العربية

ب- كانت تخالف دين آبائهم واجدادهم

ج- لم تدرك ان هذا الدين سيكون سبب عزتها ورفع مكانتها

هجرة المسلمين الى الحبشة

أ- شدة ايذاء قريش للرسول واصحابه ب- ملك الحبشة (النجاشي) لا يظلم عنده احد

تسمية أبوبكر بالصديق

- لان الرسول عندما اخبر قريش برحلة الاسراء والمعراج كذبوه ولكن ابوبكر صدقه وقال ان قال ذلك فقد صدق **خروج الرسول إلى الطائف**

رغبة الرسول في مكان اخر للدعوة غير مكة وذلك بعد وفاة عمه ابو طالب وزوجته السيدة خديجة في عام الحزن ليدعو أهلها إلى الإسلام ، ولكي يلتمس النصرة من قبيلة ثقيف **نجاح خطة الهجرة :**

١ - التخطيط الجيد ٢ - السرية التامة

٣ - توفيق الله وعنايته برسوله ٤ - اختيار القادرين علي تنفيذ التخطيط

هجرة الرسول وصحبه من مكة لم تكن بالأمر الهين علي قلوبهم

- لأنها موطنهم وأحب البلاد إليهم ولكنها التضحية في سبيل الله

أهمية المسجد في دولة الرسول الجديدة

١ - مقر الحكم ٢ - دار للعبادة ٣ - مدرسة لتعليم مبادئ الدين الإسلامي

قيام الرسول بالمؤاخاه بين المهاجرين والانصار؟

- ليسود الحب والإخاء والتعاون بين المسلمين

يعتبر اليهود أخطر فئة علي الإسلام

- بسبب ما عرف عنهم من الغدر وخيانة العهود

كتب الرسول كتاب سمي بـ (صحيفة المدينة)

- لكي يؤمن اليهود وغيرهم علي دينهم وأموالهم ودور عبادتهم بشرط أن يتعاونوا مع المسلمين لحماية المدينة من أي عدوان

اختار الرسول أن تدور المعركة عند بئر بدر؟

- لان الحباب بن المنذر احد صحابة الرسول أشار عليه أن يعسكر عند أقرب أبار بدر إلي المشركين .

حاصر الرسول بعد غزوة أحد يهود بني النضير في المدينة ؟

- لأنهم انتهزوا فرصة هزيمة المسلمين وتآمروا لقتل الرسول حتى استسلموا ووافقوا على قرار الرسول بجلائهم عن المدينة

عرفت غزوة الخندق بهذا الاسم ؟

- بسبب حفر المسلمون خندق شمال المدينة بناء على اقتراح سلمان الفارسي

اشتداد الحصار علي المسلمين من الداخل والخارج في غزوة الأحزاب

- بسبب نقض يهود بني قريظة العهد مع الرسول وانضموا للمشركين فاشتد الحصار علي المسلمين

يعتبر صلح الحديبية فتح ونصر مبين للمسلمين ؟

١ - بدأ الرسول في إرسال الرسل للملوك والرؤساء يدعوهم إلي الإسلام

٢ - بدأت مرحله نشر الدعوة عالمي .

٣- مواجهة كل من يقف أمام تبليغ ونشر الدعوة بين الناس

تسمى غزوة فتح مكة باسم (غزوة الفتح)؟ ج: لان بعدها انهارت قلعة الوثنية في شبه الجزيرة العربية .

هزيمة المسلمين في غزوة احد؟ لان الرماة خالفوا اوامر الرسول صلى الله عليه وسلم

فشل الأحزاب في الخندق ؟

أتى النصر من عند الله عندما ارسل ريحا شديده اقتلعت خيام المشركين وادخل الله الرعب في قلوبهم فعادوا خاسرين
اعتراض المسلمين لقافلة قريش بقيادة ابو سفيان؟ لتعويض المسلمين عما فقدوه بعدما خرجوا من مكة وتركوا منازلهم

وتجارتهم

مبايعة الرسول أصحابه على قتال المشركين في بيعة الرضوان؟ اشاعة خبر مقتل عثمان

المقارنات

أوجه المقارنة	بيعة العقبة الاولى	بيعة العقبة الثانية
تاريخها	كانت في عام (١٢) من البعثة في موسم الحج .	كانت في عام (١٣) من البعثة .
احداثها	التقى الرسول بوفد من اهل يثرب كانوا (١٢) رجلا (٢) من الأوس و(١٠) من الخزرج عند العقبة .	عاد اهل يثرب إلى مكة وكانوا (٧٣) رجلا وامرأتين) والتقوا بالرسول عند العقبة سرا .
نتائجها	١ - بايعوا الرسول على ألا يشركوا بالله شيئا ولا يسرقون ولا يزنون ولا يقتلون أولادهم ولا يعصونه في معروف . ٢ - ارسل الرسول معهم (مصعب بن عمير) ليعلمهم امور دينهم فكان اول سفير في الإسلام	١ - بايعوا الرسول على ان يحموه وينصروه إن هاجر إليهم ٢ - بايعهم الرسول وقال لهم (انا منكم وانتم مني ٣ - امر الرسول المسلمين بالهجرة إلى يثرب . ٤ - خرج المسلمين مهاجرين إلى يثرب تاركين وراءهم اموالهم وديارهم فارين بدينهم .

السرايا والغزوات

السرايا	الغزوات	
هي حملات وجهها النبي ضد المشركين ولم يحضرها	هي معارك خاضها المسلمون بقيادة الرسول ضد المشركين	تعريفها
- لإضعاف قوة قريش الاقتصادية ليكفوا كيدهم وعدائهم وتحريضهم لليهود على الرسول وأصحابه بالمدينة	- دفاعا عن الإسلام وحمائته ونشر مبادئه بين الناس	هدفها

الغزوات

نتائجها	أسباب الغزوة	
<p>١ - انتصار المسلمين . ٢ - قتل (٧٠) من المشركين منهم (ابو جهل وعتبه بن ربيعة) واسر (٧٠) آخرين من المشركين .</p> <p>٣ - استشهد من المسلمون (١٤) رجلا .</p>	<p>عندما سمع المسلمون ان قافلته لقريش قادمة من الشام تحمل تجارتهم فامرهم الرسول باعتراضها لتكون تعويضا لهم عما سلبته منهم قريش</p>	غزوة بدر ٢هـ
<p>١ - انتصار المشركين . ٢ - قتل من المشركين (١٤) مقاتل . ٣ - استشهد (٧٠) من المسلمين منهم (حمزة عم الرسول) .</p>	<p>١ - رغبة قريش في الانتقام من المسلمين بعد بدر .</p>	غزوة احد ٣هـ
<p>انتصر المسلمون وقرر ابو سفيان العود الى مكة .</p> <p>توجه الرسول الى يهود بنى قريظة وحاصرهم وحكم فيهم (سعد بن معاذ) بان تقتل مقاتلتهم وتسبى نسائهم وتقسم اموالهم . (وهكذا تخلص الرسول من الطائفة الثالثة من اليهود) .</p>	<p>بسبب يهود بنى النضير الذين اخرجهم الرسول من المدينة بسبب خيانتهم فقاموا بتحريض قريش والقبائل العربية على قتال الرسول</p>	غزوة الخندق ٥هـ
<p>انتصار المسلمين على اليهود</p> <p>- ابقى الرسول بعض اليهود من سكن المدينة يزرعون ارضها على ان يكون نصف انتاجها للمسلمين .</p>	<p>كانت خيبر مركزا للدسائس والمؤامرات وكانت تعرض القبائل على قتال المسلمين فقرر الرسول ان يفتحها ليأمن شرها .</p>	غزوة خيبر ٧هـ
<p>١ - فتح الرسول مكة دون قتال .</p> <p>٢ - عفا الرسول عن اهل مكة .</p> <p>٣ - طاف الرسول بالكعبة وحطم الاصنام التي حولها .</p>	<p>بسبب نقض قبيلة قريش لعهدا مع الرسول عندما تحالفت مع قبيلة (بكر) وقتلت قبيلة (خزاعة) التي دخلت في حلف الرسول .</p>	فتح مكة ٨هـ
<p>- خرج الرسول بالجيش الى (حنين) .</p> <p>- اصاب المسلمون الغرور بقوتهم وقال بعضهم لن نهزم اليوم من قله .</p> <p>- ما ان وصلوا الى (حنين) حتى انقض عليهم العدو فترجعوا - ثبت الرسول وامر عمه (العباس) بان ينادى في المسلمين ان النصر من عند الله</p>	<p>إعلان قبيلتي (هوازن و ثقيف) الحرب على المسلمين .</p>	غزوة حنين ٨هـ
<p>١ - انتصار المسلمين ٢ - عاد الرسول بجيشه سالما الى المدينة .</p>	<p>اعداد الروم جيشا لمقاتلة المسلمين .</p>	غزوة تبوك ٩هـ

اهم التواريخ

ميلاد الرسول ﷺ	٥٧٠ م
بيعة العقبة الاولى	السنة ١٢ من البعثة
بيعة العقبة الثانية وهجرة المسلمين الى المدينة	السنة ١٣ من البعثة
غزوة بدر	٢ هـ
غزوة احد	٣ هـ
غزوة الخندق	٥ هـ
صلح الحديبية بدات عالمية الدعوة	٦ هـ
غزوة خيبر	٧ هـ
فتح مكة وغزوة حنين	٨ هـ
غزوة تبوك	٩ هـ
حجة الوداع	١٠ هـ
وفاة الرسول ﷺ	١١ هـ / ٦٣٢ م

أهم الشخصيات

نبي الله هود	ارسله الله لقوم عاد
نبي الله صالح	ارسله الله لقوم ثمود
نبي الله شعيب	ارسله الله لقوم مدين
نبي الله ابراهيم	ارسله الله لاهل مكة / صاحب الديانة الحنيفية
الناطقة الذبياني	اشهر شعراء العرب قبل الاسلام
السيدة خديجة	زوجة الرسول وام المسلمين - حظيت بمكانة عالية
ابرهة الحبشي	حاول هدم الكعبة
حليمة السعدية	مرضعة الرسول
عبد المطلب	جد الرسول / كفله من سن السادسة وحتى الثامنة
السيدة امنة بنت وهب	ام الرسول توفيت وهو في سن السادسة
ابو طالب عم الرسول	كفل الرسول من سن الثامنة
ميسرة	غلام السيدة خديجة الذي سافر الى الشام مع الرسول
ورقة بن نوفل	كان عالم بالانجيل بشر الرسول بالنبوة
زيد بن حارثة	اول من اسلم من الموالى / صاحب الرسول في رحلة الطائف
ابو لهب	عم الرسول سب الرسول بعد الجهر بالدعوة
النجاشي	ملك الحبشة / استقبل المسلمين
مصعب بن عمير	اول سفير في الاسلام
عبد الله بن اريقط	دليل الرسول في الهجرة
عبد الله بن أبي بكر	بمتابعة أخبار المشركين
أسماء بنت أبي بكر	قامت بإحضار الطعام أثناء الهجرة ،
عامر بن فهيرة	رعي الأغنام حول الغار ليخفي آثارهما
(الحباب بن المنذر	اشار على الرسول ان يعسكر عند ادنى بئر من ابار بدر الى المشركين
(عبد الله بن سلول) .	زعيم المنافقين (عبد الله بن سلول) . رجع بثلاث الجيش في غزوة احد
(خالد بن الوليد)	استغل نزول الرماة في غزوة احد واستولى على الجبل المرتفع وساعد على انتصار المسلمين في غزوة احد قبل اسلامه
سلمان الفارسي	اشار على الرسول بحفر خندق حول المدينة . في غزوة الخندق
عثمان بن عفان	مبعوث الرسل في صلح الحديبية
عمر بن الخطاب	انهى الوجود اليهودي من شبه الجزيرة العربية
العباس بن عبد المطلب	نادى في المسلمين يوم غزوة حنين بان النصر من عند الله

ضع كلمة (صواب) أمام العبارة الصحيحة وكلمة (خطأ) أمام العبارة الخطأ مع التصويب :

١. من أشهر أسواق العرب قبل الإسلام سوق عكاظ . (صواب)
٢. مكث الرسول ﷺ في بيت حليمة السعدية ثلاث سنوات (خطأ) أربع سنوات
٣. ماتت السيدة آمنة بن وهب أثناء عودتها من مكة إلى يثرب بعد زيارة أخوتها (صواب)
٤. مرت دعوة الرسول بخمس مراحل (خطأ) أربع مراحل
٥. استأجر الرسول أحد المسلمين دليلاً له أثناء الهجرة . (خطأ) لم يكن مسلماً بعد
٦. استمرت الدعوة السرية أربع سنوات (خطأ) ثلاث سنوات
٧. أشار الرسول ﷺ على المسلمين الأوائل بالهجرة إلى اليمن . (خطأ) الحبشة
٨. اشتغل الرسول ﷺ في صباه يرعى الأغنام (صواب)
٩. اصطحب الرسول ﷺ في هجرته إلى يثرب أبو بكر الصديق (صواب)
١٠. اقتضرت أسواق العرب على التجارة فقط كانت ميداناً لتنافس الشعراء والخطباء (خطأ)
١١. اكتسب الرسول ﷺ الكثير من الصفات من عمله بحرفة الرعي (صواب)
١٢. أمر الرسول ﷺ أصحابه بمعاملة أسرى قريش في غزوة بدر بمعاملة حسنة (صواب)
١٣. انتشرت الديانة المسيحية بدولة الفرس (خطأ) العبادات الوثنية
١٤. انتشرت اليهودية والمسيحية في أجزاء كثيرة من شبه الجزيرة العربية (خطأ) أجزاء محدودة
١٥. انتشرت في المجتمع العربي قديماً بعض العادات السيئة (صواب)
١٦. انهزم المسلمون يوم أحد لقلة عددهم مخالفة الرماة لأوامر الرسول ﷺ (خطأ)
١٧. بعث الرسول ﷺ في سن الأربعين من عمره (صواب)
١٨. بعد موت السيدة خديجة وأبو طالب فكر الرسول ﷺ في مكان آخر للدعوة غير مكة (صواب)
١٩. بلغ عدد الذين بايعوا الرسول ﷺ في بيعة العقبة الأولى ١٢ رجلاً من أهل يثرب (صواب)
٢٠. تجمع رابطة الدم والعصبية جماعة القبيلة (صواب)
٢١. تحمل الرسول ﷺ وأصحابه الصعاب في سبيل نشر الدعوة (صواب)
٢٢. تخلص الرسول ﷺ من يهود بني قريظة بعد غزوة بدر (خطأ) غزوة الخندق
٢٣. حاول أبرهة هدم الكعبة ليصرف العرب عن زيارتها . (صواب)
٢٤. خرج الرسول ﷺ مع جده في التجارة إلى بلاد الشام . (خطأ) عمه
٢٥. خلال فترة الدعوة سراً أسلم العرب ومعهم أفراد من غير العرب . (صواب)
٢٦. رحب أهل الطائف بالرسول ﷺ ونصروه . (خطأ) رفضوا الدعوة
٢٧. السرايا هي حملات وجهها الرسول ﷺ ضد المشركين بهدف إضعافهم سياسياً (خطأ) إضعافهم اقتصادياً
٢٨. ساد النظام الملكي شمال وجنوب شبه الجزيرة العربية . (صواب)

٢٩. قام المجتمع الهندي على التمييز الطبقي (صواب)
٣٠. قتل في غزوة أحد ٧٠ من الصحابة منهم حمزة عم الرسول (صواب)
٣١. قتل في غزوة بدر أربعة عشر رجلاً من المشركين وسبعون رجلاً من المسلمين (خطأ) المسلمين ، المشركين
٣٢. قصد الرسول ﷺ مدينة الطائف يلتمس النصرة من ثقيف . (صواب)
٣٣. كاد المسلمون أن يهزموا في غزوة حنين رغم كثرتهم . (صواب)
٣٤. معين وسبأ وحمير من أشهر الممالك التي ظهرت في شمال شبه الجزيرة العربية (خطأ) الجنوب
٣٥. يعتبر وأد البنات من العادات الحسنه للعرب قبل الاسلام (خطأ) السيئة
٣٦. سكنت قريش مدينة الطائف (خطأ) مكة
٣٧. كانت شبه الجزيرة العربية مليئة بالصراعات بين الفرس والروم (خطأ) منطقة هادئة
٣٨. وقعت العراق تحت ايدى الفرس (صواب)
٣٩. اقتصرت اسواق العرب على تنافس الشعراء فقط (خطأ) وللتجارة أيضا
٤٠. الديانة الحنيفية هي عبادة الله على عبادة سيدنا عيسى (خطأ) سيدنا ابراهيم
٤١. كان نظام الملكية هو نظام الحكم في شبه الجزيرة العربية (خطأ) النظام القبلي
٤٢. اعترف الروم بالديانة المسيحية ديانة رسمية (صواب)
٤٣. ولد الرسول ﷺ يتيم الاب فكفله جده (صواب)
٤٤. يرجع نسب الرسول ﷺ الى نبي الله ابراهيم (صواب)

أكمل العبارات الآتية

- ١- سيطرت دولة الروم على مناطق عربية مثل **الشام ومصر** واعتنقوا الديانة **المسيحية** .
- ٢- سيطرت دولة الفرس على مناطق عربية مثل **العراق واليمن** واعتنقوا الديانة **الوثنية**
- ٣- كان مجتمع **الهند** مجتمع طبقي وعبدوا **الزواحف** وقصدوا **البقر**
- ٤- قامت بعض الحضارات القديمة في شبه الجزيرة العربية مثل **حضارة قوم عاد** و**حضارة قوم ثمود**
- ٥- قامت ممالك **الحيرة** و**الغساسنة** في شمال الجزيرة العربية بينما قامت ممالك **معين** و**حمير** في الجنوب
- ٦- قامت بعض المدن في غرب شبه الجزيرة العربية مثل **مكة** و**يثرب**
- ٧- أرسل الله سيدنا هود الى قوم **عاد** بينما أرسل سيدنا **شعيب** الى قوم مدين
- ٨- نشأت الديانة الحنيفية على يد نبي الله **ابراهيم**
- ٩- ساد النظام **القبلي** كنظام حكم في الجزيرة العربية قبل الاسلام
- ١٠- من اشهر القبائل التي سكنت مكة **قريش** والتي سكنت الطائف **ثقيف** والتي سكنت يثرب **الأوس والخزرج**
- ١١- القبيلة هي جماعة من الناس ينتمون الى **أصل واحد** مشترك تربطهم **رابطة العصبية والدم**
- ١٢- كانت **حرفة الرعي** الحرفة السائدة في الجزيرة العربية

- ١٣- من أهم الصناعات في الجزيرة العربية **السيوف والرمح**
- ١٤- قات الزراعة في شبه الجزيرة العربية بسبب قلة الأمطار
- ١٥- تمتعت مدينة **مكة** بمكانة تجارية هامة
- ١٦- من أشهر أسواق العرب **عكاظ وذي المجاز** ومن أشهر شعراءهم **النابغة الذبياني**
- ١٧- سكن **البدو** الصحراء وعملوا بالرعي بينما سكن **الحضر** المدن .
- ١٨- من أهم العادات السيئة للعرب قبل الاسلام **وأد البنات** و من الحسنة **العفو عند المقدرة**
- ١٩- ولد الرسول ﷺ عام ٥٧٠ م الذي سمي بعام **الفيل**
- ٢٠- تم إرسال الرسول ﷺ الى **ديار بنى سعد** ليتم الرضاعة بقى هناك مدة ٤ سنوات
- ٢١- ماتت ام الرسول ﷺ وهو في سن **السادسة** ثم كفله جده **عبد المطلب** الذي مات هو الآخر والرسول في سن **الثامنة** ثم كفله **عمه أبو طالب**
- ٢٢- عمل الرسول ﷺ في صباه بمهنة **الرعى** ثم عمل بالتجارة
- ٢٣- حذر الراهب بحيرا ابوطالب وطالبه بالرجوع خوفا على الرسول من غدر **اليهود**
- ٢٤- لقب الرسول ﷺ في شبابه ب **الصادق الأمين**
- ٢٥- كان غلام السيدة خديجة يسمى **ميسرة** وصاحب الرسول في الرحلة التجارية لبلاد الشام
- ٢٦- كان الرسول ﷺ يتعبد في غار حراء ونزل عليه الوحي وهو في سن **الأربعين** .
- ٢٧- اخبر **ورقة بن نوفل** الرسول بان ما شهدده في غار حراء هو **الناموس** الذي نزل على موسى
- ٢٨- استمرت المرحلة السرية من الدعوة الاسلامية **ثلاث** سنوات
- ٢٩- أول من اسلم من الرجال هو **أبو بكر الصديق** ومن النساء هي **السيدة خديجة** من الصبيان **علي بن أبي طالب** ومن الموالى **زيد بن حارثة**
- ٣٠- أول مدرسة في الاسلام هي **دار الأرقم بن أبي الأرقم**
- ٣١- وصل عدد المسلمين في نهاية المرحلة السرية الى **أكثر من ثلاثين**
- ٣٢- أعلن الرسول المرحلة الجهرية للدعوة في العام **الثالث** من البعثة واستمرت حتى الهجرة وكانت بدون مواجهة
- ٣٣- أراد الرسول التماس النصرة من قبيلة ثقيف التي تسكن الطائف لكنهم رفضوا دعوة الرسول وصاحبه في هذه الرحلة **زيد بن حارثة**
- ٣٤- سمي عام الحزن بهذا الاسم لوفاة كلا من **أبو طالب والسيدة خديجة**
- ٣٥- **الإسراء** السير ليلا من المسجد الحرام للمسجد الاقصى اما **المعراج** هو صعود الرسول ﷺ من المسجد الاقصى الى **السموات العلى**
- ٣٦- لقب أبو بكر الصديق ب الصديق لانه صدق الرسول بعد حادثة **الإسراء والمعراج**

٣٧- تمت بيعة العقبة الاولى عام ١٢ من البعثة اسلم فيها ١٢ وبايعوا لرسول على ألا يشركوا بالله شيئاً وألا

يسرقون ولا يزنون ولا يقتلون أولادهم وألا يعصونه في معروف

اختر الإجابة الصحيحة من بين الأقواس :

١. أطلق على العام الذي توفي فيه كل من السيدة خديجة وأبو طالب بعام (الفيل - الحزن - الفرح - الجهر بالدعوة)
٢. أقام محمد ﷺ في بيت حليلة السعدية سنوات (ثلاث - أربع - خمس - ست)
٣. انتصر المسلمون على في غزوة تبوك ٩هـ (بنى قريظة - قريش - بنى قينقاع - الروم)
٤. خرجت أول طائفة من اليهود من المدينة بعد غزوة (بدر - احد - الخندق -)
٥. انتصر المسلمون على قبيلتي في غزوة حنين ٨هـ (هوازن وثقيف - بكر وخزاعة - قريش وبكر - قريش وثقيف)
٦. دخلت قبيلة في حلف الرسول بعد صلح الحديبية (بكر - خزاعة - ثقيف - قريش)
٧. بايع الرسول ﷺ رجلا وامرأتين من أهل يثرب في بيعة العقبة الثانية (٧٠-٧١-٧٢-٧٣)
٨. بناء المسجد هو الركن من أركان بناء دولة الإسلام (الأول - الثاني - الثالث - الرابع)
٩. نام في فراش الرسول ﷺ أثناء الهجرة إلى يثرب (عمر بن الخطاب - علي بن أبي طالب - زيد بن حارثة)
١٠. خرج الرسول ﷺ في رحلة تجارية إلى بلاد الشام مع عمه وهو في سن (٨-١٠-١٢-١٣)
١١. حذر الراهب بحيرا أبا طالب من خطر على الرسول ﷺ (الفرس - الروم - اليهود - الهنود)
١٢. الحنفاء جماعة من الناس على دين سيدنا (صالح - موسى - عيسى - إبراهيم)
١٣. تمت بيعة العقبة الثانية في العام من البعثة (١٢-١٣-١٤-١٥)
١٤. حدثت غزوة بدر عام هـ (٢-٣-٤-٥)
١٥. اختبأ الرسول ﷺ وصاحبه ... في غار ثور أثناء الهجرة (عمر بن الخطاب - عثمان بن عفان - أبو بكر الصديق - علي)

المصطلحات

الخلافة	شكل من اشكال الحكم اقره المسلمون بعد وفاة الرسول يقوم على اختيار من يتولى رئاسة المسلمين في امور الدين والدنيا نيابة عن الرسول
البيعة العامة	كانت من عامة المسلمين له في المسجد
البيعة الخاصة	مبايعة المهاجرين و الأنصار في سقيفة بني ساعدة
شورى	نظام اتبعه المسلمين في اختيار الخلفاء الراشدين يقوم على الترشيح والانتخاب
مرتدون	هم قبائل عربية ارتدت عن الاسلام بعد وفاة الرسول ورفضت دفع الزكاة وبعضهم ادعى النبوة
الديوان	كلمة فارسية معناها السجل أو الدفتر
اسطول بحري	مجموعة كبيرة من السفن التي تستخدم في الحروب
الخوارج	هم فئة من جيش علي خرجت عليه رافضة مبدأ التحكيم

الوحدة الرابعة

بم تفسر

١. أطلق على ابوبكر وعمر وعثمان وعلى اسم الخلفاء الراشدين
- أطلق عليهم الخلفاء : لأنهم جاءوا بعد الرسول وتولوا المسلمين في دينهم ودنياهم
- أطلق عليهم الراشدون : لأنهم ساروا على نهج الرسول واهتدوا بهديه واستكملوا مسيرته في بناء الدولة
٢. يعتبر ابو بكر اول خطيب في الاسلام
- لانه عندما جهر الرسول بالدعوة خطب عند الكعبة وتحمل أذى المشركين
٣. ظهرت حكمة أبو بكر عند وفاة الرسول ؟
١- عند موت الرسول وصاح عمر من قال إن محمدا قد مات ضربت عنقه
٢- ثبت الصديق وقال من كان يعبد محمدا فإن محمدا قد مات ومن كان يعبد الله فإن الله حي لا يموت
٤. اجتماع الأنصار في سقيفة بني ساعدة بعد وفاة الرسول
- لاختيار خليفة للمسلمين حفاظا على كيان الدولة الاسلامية
٥. إرسال أبو بكر جيش أسامة إلى الروم ؟- لقتال الروم تنفيذ لأوامر الرسول ﷺ
٦. رفض بعض الصحابة إرسال جيش أسامة إلى الروم ؟- لحاجة الدولة إليه لمواجهة الخطر الذي تعرضت له
٧. قيام ابو بكر الصديق بجمع القرآن الكريم
- بسبب استشهاد الكثير من حفظة القرآن أثناء حرب المرتدين فأشار عمر بن الخطاب علي أبو بكر بجمع القرآن
٨. إرسال ابو بكر الصديق الجيوش الى الشام والعراق
١- لنشر الإسلام خارج شبه الجزيرة العربية
٢- تأمين حدود الدولة
٩. لقب الرسول عمر بن الخطاب بالفاروق ؟ - لان الله فرق به بين الحق والباطل بعد اسلامه .
١٠. اهمية نظام الحسبة الذي انشاه عمر : ١- مراقبة المكاييل والموازين ب- المحافظة علي الآداب العامة
١١. انشاء المدن الاسلامية ؟ - لتكون تجمع للمسلمين والجيوش .
١٢. تسمية معركة نهاوند باسم فتح الفتوح ؟ - لان هزم فيها الفرس وانتهت دولتهم نهائيا
١٣. قام عمر بعزل خالد بن الوليد من قيادة الجيوش ؟ حتى لا يفتتن الناس به لانتصاراته
١٤. رغبة عمرو بن العاص في فتح مصر ؟ - لانه رأى أن فتحها سوف يكون قوة للمسلمين وعود لهم
١٥. تردد عمر بن الخطاب في فتح مصر في البداية ؟ لانشغال جيوش المسلمين في مطاردة الفرس والروم
١٦. كان عثمان بن عفان من المقربين للرسول ؟- قربته الرسول إليه لحسن خلقه وكرمه وحيائه .
١٧. سمي عثمان بن عفان بلقب ذو النورين
- لزواجه من اثنتين من بنات الرسول وهما رقية ولما توفيت تزوج أم كلثوم
١٨. شارك عثمان بن عفان في كل الغزوات ما عدا بدر ؟- لمرض زوجته فجلس لجوارها ياذن النبي
١٩. أمر عثمان (زيد بن ثابت) بكتابة القرآن في مصحف واحد وبأغة واحدة ؟

- بسبب اختلاف المسلمين في قراءة القرآن لدخول غير العرب في الإسلام وتوحيد قراءة القرآن في كل الولايات .
٢٠. وزع عثمان المصحف الموحد علي البلاد الإسلامية ؟ - حتى تتوحد القراءة في كل قبائل العرب والبلاد المفتوحة
٢١. إنشاء عثمان بن عفان أسطولاً إسلامياً بحرياً ؟ - لصد هجمات الروم علي سواحل مصر والشام
٢٢. فتح جزيرة قبرص ؟ - قاد معاوية المسلمين لفتحها لإيقاف هجمات الروم علي سواحل مصر والشام
٢٣. تسمية معركة ذات الصواري بهذا الاسم ؟ - بسبب كثرة صواري المراكب التي اشتركت في هذه المعركة .
٢٤. حدوث الفتنة في اواخر عهد عثمان بن عفان ومقتله
- ١ - دخول (عبد الله بن سبأ) اليهودي الإسلام وهو حاقد عليه وينتظر الفرصة ليشعل الفتنة بين المسلمين
- ٢ - انضم إليه بعض المنافقين ووجهوا الاتهامات الباطلة لعثمان وطلبوا عزله لكن عثمان رفض
- ٣ - حاصر المتمردون منزل عثمان وتسلق أحدهم داره وقتلوه وهو يقرأ القرآن
٢٥. شارك علي بن أبي طالب في كل الغزوات ماعدا تبوك ؟ لان الرسول استخلفه علي أهل المدينة
٢٦. قيام علي بن ابي طالب بتنظيم الشرطة ؟
- ١ - الحفاظ على امن وسلامة المواطنين ٢ - ملاحقة الجناه والمفسدين والخارجين على القانون
٢٧. امتداد الفتنة التي اشتعلت في عهد عثمان إلى عهد علي
- بسبب انقسام الناس إلي فريقين
- الفريق الأول / يطلب القصاص من قتلة عثمان مثل معاوية
- الفريق الثاني / بقيادة علي بن أبي طالب يري تأجيل القصاص
٢٨. بم تفسر : كان علي بن ابي طالب يري تأجيل القصاص من قتلة عثمان - حتى تستقر أمور الدولة
- ما النتائج المترتبة على : -
- ١ - اجتماع المسلمين في سقيفة بني ساعدة
- ١ - اتفق الجميع أن تكون الخلافة في المهاجرين ٢ - بايعوا أبو بكر خليفة للمسلمين (البيعة الخاصة)
١. إرسال أبو بكر جيش أسامة إلى الروم ؟
- عاد الجيش بعد أربعين يوم سالم غانم لينضم الي جيوش المسلمين في قتال المرتدين
٢. إرسال ابو بكر الجيوش لمحاربة المرتدين والمنتبئين
- ١ - نجحت الجيوش في مهمتها وعادت القبائل المرتدة للإسلام . ب - استشهاد عدد كبير من حفظة القرآن في حروب الردة
٣. فتح عمرو بن العاص مدينة الاسكندرية ؟ - أصبحت مصر ولاية اسلامية
٤. إنشاء أول اسطول اسلامي
- ١ - ادى ذلك الى تأمين حدود الدولة الاسلامية بر وبحر ٢ - صد هجمات الروم على سواحل مصر والشام
- ٣ - الانتصار على الروم في معركة ذات الصواري
٥. الفتوحات في عهد عثمان بن عفان

- ١ - تأمين حدود الدولة غرب حتى تونس ، وجنوب حتى النوبة ، وشمالاً حتى أرمينيا
٢ - زاد دخل الخير في الدولة لكثرة الفتوحات الحروب

النتائج	القادة	الاطراف	الموقعة
١ - انتصر فيها المسلمون علي الفرس ٢ - قتل قائد الفرس رستم ٣ - استولى المسلمون على المدائن عاصمة الفرس .	سعد بن أبي وقاص	المسلمون والفرس	معركة القادسية ١٥هـ
١ - انتصر المسلمون بقيادة النعمان بن مقرن علي الفرس ٢ - انتهت دولة الفرس نهائياً .	النعمان بن مقرن	المسلمون والفرس	معركة نهاوند فتح الفتوح ٢١هـ
١ - انتصار المسلمين بقيادة خالد بن الوليد علي الروم ٢ - مغادرة قيصر الروم بلاد الشام . بعد معركة اليرموك عزل عمر بن الخطاب خالد بن الوليد عن قيادة الجيوش وعين بدلاً منه ابو عبيدة بن الجراح	خالد بن الوليد	المسلمون والروم	معركة اليرموك ١٣هـ ٦٣٤م
١ - تدمير أسطول الروم البحري ٢ - قتل الآلاف من الروم	عبد الله بن أبي السرح	المسلمون والروم	موقعة ذات الصواري ٣٤هـ

المدن المفتوحة في الاسلام

المدينة	القائد الذي فتحها
جنوب العراق	خالد بن الوليد
حمص بالشام	أبي عبيدة بن الجراح
دمشق بالشام	يزيد بن أبي سفيان
الأردن بالشام	شرحبيل بن حسنه
القدس بالشام	عمرو بن العاص
فتح مصر	عمرو بن العاص
المدائن عاصمة الفرس .	سعد بن أبي وقاص
القضاء على دولة الفرس	النعمان بن مقرن
فتح بلاد الشام	خالد بن الوليد
فتح بيت المقدس	عمر بن الخطاب
قبرص	معاوية بن أبي سفيان (٢٨ هـ)
ارمينيا	حبيب بن مسيلمة (٢٥ هـ)
افريقيه (تونس)	عبد الله بن أبي السرح (٢٨ هـ)
النوبة	عبد الله بن أبي السرح (٣١ هـ)

اهم التواريخ

١١ هـ	تولى أبوبكر الصديق الخلافة
١٣ هـ	وفاة ابي بكر
١٥ هـ	فتح بيت المقدس
٢١ هـ	فتح مصر
٣٤ هـ	موقعة ذات الصواري
٤٠ هـ	استشهاد علي بن ابي طالب

أكمل العبارات الآتية بكلمات مناسبة :

- (١) اتجه لفتح بلاد العراق خالد بن الوليد واتجه لفتح حمص أبو عبيدة بن الجراح واتجه لفتح دمشق يزيد بن أبي سفيان
- (٢) اتخذ الخليفة عمر بن الخطاب من هجرة الرسول ﷺ مناسبة لبداية التقويم الهجري
- (٣) اتفق المهاجرون والأنصار على مبايعة أبي بكر الصديق بالخلافة في سقيفة بني ساعدة
- (٤) اجتمع زعماء قريش في دار الندوة . لتدبير مؤامرة ضد الرسول ﷺ
- (٥) احتلت دولة الروم . بعض البلاد العربية مثل مصر وبلاد الشام .
- (٦) أرسل أبو بكر الصديق القائد خالد بن الوليد لفتح بلاد العراق بينما أرسل شرحبيل بن حسنة إلى بلاد الأردن
- (٧) أرسل الخليفة أبو بكر القائد أبو عبيدة بن الجراح لفتح حمص بينما أرسل القائد عمرو بن العاص لفتح القدس
- (٨) استشهد الخليفة عثمان بن عفان عام ٣٥ هـ
- (٩) أسلم علي يد أبي بكر الكثير من الصحابة مثل عثمان بن عفان وسعد بن أبي وقاص
- (١٠) أسلم عمر بن الخطاب في السنة الخامسة من البعثة
- (١١) أشار على الخليفة أبي بكر بجمع القرآن الكريم عمر بن الخطاب .
- (١٢) انتصر الأسطول الإسلامي على الأسطول الروماني في معركة ذات الصواري عام ٣٤ هـ
- (١٣) انتصر خالد بن الوليد في معركة اليرموك على الروم عام ١٣ هـ .
- (١٤) أنشأ عثمان بن عفان أول أسطول بحري إسلامي
- (١٥) أنشأ الخليفة عمر بن الخطاب نظام الحسبة للإشراف على الأسواق
- (١٦) انهزم الفرس مرة أخرى على يد المسلمين في معركة نهاوند (فتح الفتوح) عام ٢١ هـ بقيادة النعمان بن مقرن
- (١٧) أنهى الرسول ﷺ وجود يهود بنو قريظة بعد غزوة الخندق .
- (١٨) أول أسطول إسلامي أنشئ في عهد الخليفة عثمان بن عفان
- (١٩) أول الخلفاء الراشدين أبو بكر الصديق
- (٢٠) باستشهاد علي بن أبي طالب انتهى عصر الخلفاء الراشدين
- (٢١) تم اختيار أبو بكر الصديق خليفة للمسلمين في سقيفة بني ساعدة .
- (٢٢) تم الجهر بالدعوة بعد ثلاث سنوات من نزولها على الرسول ﷺ
- (٢٣) تم فتح أرمينية على يد حبيب بن مسيلم بينما تم فتح أفريقية عبد الله بن أبي السرح .
- (٢٤) تم فتح بيت المقدس عام ١٥ هـ بينما تم فتح مصر عام ٢١ هـ / ٦٤١ م
- (٢٥) تم فتح جزيرة قبرص عام ٢٨ هـ على يد معاوية بن أبي سفيان
- (٢٦) تم فتح قبرص في عهد الخليفة عثمان بن عفان عام ٢٨ هـ

- ٢٧) تم فتح مصر عام ٢١ هـ على يد عمرو بن العاص
٢٨) خرج الرسول ﷺ بعد فتح مكة لقتال قبيلتي هوازن ، ثقيف
٢٩) دارت معركة القادسية بقيادة القائد المسلم سعد بن أبي وقاص في عهد الخليفة عمر بن الخطاب
٣٠) الديوان كلمة فارسية بمعنى السجل او الدفتر ومن أمثلتها ديوان الجند وديوان الخراج
٣١) عرض أبو بكر الصديق على عثمان بن عفان الإسلام
اختر الاجابة الصحيحة مما بين الاقواس

١. اتجه القائد شرحبيل بن حسنة لفتح (حمص - دمشق - القدس - الأردن)
٢. اتجه جيش لفتح فلسطين في عهد أبي بكر (عمر بن ربيعة - شرحبيل بن حسنة - عمرو بن العاص - أبو عبيدة بن الجراح)
٣. اتصف عثمان بن عفان ب..... (كرم الخلق - حب الحق - الإنفاق في سبيل الله - كل ماسبق)
٤. اتفق المسلمون في سقيفة بني ساعدة على أن تكون الخلافة في..... (الأنصار - المهاجرين - الأوس - الخزرج)
٥. اجتمع المسلمون في سقيفة لاختيار من يخلف الرسول ﷺ (- بني قريظة - بني ساعدة - بني النضير)
٦. استمر حكم عثمان بن عفان لمدة سنة (١٠ - ١٢ - ١٤ - ١٦)
٧. استمرت خلافة عمر بن الخطاب لمدة سنوات (١٠ - ١٠.٥ - ١١ - ١٢)
٨. الأسس التي قام عليها حكم عمر بن الخطاب..... (العدل - الرحمة - الزهد - كل ماسبق)
٩. أشار على أبو بكر بضرورة جمع القرآن (عمر بن الخطاب - علي بن أبي طالب - عثمان بن عفان - الزبير بن العوام)
١٠. أطلق على الفئة التي رفضت التحكيم..... (المرتدين - الأنصار - الخوارج - المهاجرين)
١١. أعلن عثمان بن عفان إسلامه على يد . (أبو بكر الصديق - عمر بن الخطاب - الزبير بن العوام - أبو عبيدة بن الجراح)
١٢. انتصر على الروم في موقعة اليرموك ١٣ هـ (أبو عبيدة بن الجراح - عمرو بن العاص - يزيد بن أبي سفيان - خالد بن الوليد)
١٣. انتصر على الفرس في معركة نهاوند (سعد بن أبي وقاص - خالد بن الوليد - عمرو بن العاص - النعمان بن مقرن)
١٤. انتصر المسلمون في معركة القادسية عام (٢١ - ١٦ - ١٥ - ١٣) هـ
١٥. تتبع جيش المسلمين الفرس ودخلوا عاصمتهم (المدائن - البصرة - طهران - شيراز)
١٦. تزعم الفريق الذي طالب بالقصاص من قتلة عثمان... (علي بن أبي طالب - عمرو بن العاص - معاوية بن أبي سفيان)
١٧. تم طعن عمر بن الخطاب وهو يصلي الفجر على يد (أبو لؤلؤة المجوسي - رستم - عبد الله بن سلول - بن ملجم)
١٨. تم فتح أفريقية على يد عبد الله بن أبي السرح عام..... (٢٨ - ٢٦ - ٢٥ - ٢٤)
١٩. تم فتح بيت المقدس في عهد الخليفة (أبو بكر - عمر - علي - عثمان)
٢٠. تم فتح مصر في عهد الخليفة..... (أبو بكر - عمر - عثمان - علي)
٢١. تم فتح مكة عام هـ (٨ - ٦ - ٤ - ٢)
٢٢. تم في عهد الخليفة عمر بن الخطاب..... (القضاء على المرتدين - إنشاء الدواوين - جمع القرآن)
٢٣. نال عمر بن الخطاب الشهادة في عام هـ (٢٤ - ٢٣ - ٢٢ - ٢١)

٢٤. نجح . في قتل الخليفة على بن أبي طالب (عبد الله بن سبأ - عبد الرحمن بن ملجم - عبد الله بن سلول - سعد بن معاذ)
٢٥. نشبت الفتنة في عهد عثمان على يد رجل يدعى .. (عبد الله بن سبأ - عبد الله بن أبي السرح - معاوية بن أبي سفيان)

ضع كلمة (صواب) امام العبارة الصحيحة وكلمة (خطأ) امام العبارة الخطأ مع التصويب :

١. اتبع نظام الشورى في اختيار الخلفاء الراشدين منذ عهد أبي بكر الصديق (صواب)
٢. اختبأ الرسول وأبو بكر في غار حراء لمدة ثلاث ليال (خطأ) غار ثور
٣. أرسل أبو بكر الصديق جيش خالد بن الوليد إلى اليمن . (خطأ) العراق
٤. استمرت فتوحات المسلمين في عهد عثمان بن عفان إلى بلاد النوبة جنوباً . (صواب)
٥. أسلم عمر بن الخطاب في العام الثالث من البعثة (خطأ) العام الخامس
٦. انتصر الفرس على المسلمين في معركة القادسية (خطأ) انتصر المسلمون على الفرس
٧. انتصر المسلمون على الروم في معركة ذات الصواري (صواب)
٨. أنشأ عمر بن الخطاب العديد من الدواوين . (صواب)
٩. أنشأ عمر بن الخطاب نظام الحسبة للإشراف على بيت المال . (خطأ) الأسواق والمكايل
١٠. أنشأ عمر بن الخطاب نظام القضاء ونظام البريد . (صواب)
١١. ترتب على حرب المرتدين موت الكثير من حفظة القرآن الكريم (صواب)
١٢. تردد أبو بكر في دخوله للإسلام (خطأ) لم يتردد
١٣. تم بناء أول أسطول إسلامي في عهد ثاني الخلفاء الراشدين (خطأ) ثالث
١٤. تم فتح قبرص وأرمينيا وتونس في عهد عثمان بن عفان . (صواب)
١٥. تم فتح مصر في عهد الخليفة عمر بن الخطاب . (صواب)
١٦. تمت بيعة العقبة الأولى في العام الثاني عشر من البعثة (صواب)
١٧. تمت مبايعة أبي بكر بالخلافة في سقيفة بني ساعدة فقط (خطأ) والمسجد
١٨. تميز حكم الخليفة عمر بن الخطاب بالعدل والرحمة (صواب)
١٩. توفي والد الرسول ﷺ عبد الله بعد ولادته (خطأ) قبل ولادته
٢٠. تولى عثمان الخلافة بعد أبي بكر الصديق (خطأ) عمر بن الخطاب
٢١. الخليفة أبو بكر أول من أنشأ بيت المال (خطأ) عمر بن الخطاب
٢٢. دعت الديانة الحنيفية إلى عبادة النجوم والكواكب . (خطأ) الايمان بالله الواحد
٢٣. فتح عمرو بن العاص الإسكندرية عام ٢١ هـ (صواب)
٢٤. قاد خالد بن الوليد جيوش المسلمين في معركة اليرموك (صواب)
٢٥. قام عبد الله بن أبي السرح والى مصر بفتح إفريقيا أو تونس حالياً . (صواب)
٢٦. كان أبو بكر أول سفير في الإسلام (خطأ) مصعب بن عمير